

2º ANO

MATEMÁTICA

Superintendência de
Educação Infantil e
Ensino Fundamental

Secretaria de
Estado da
Educação



ATIVIDADE

TEMA: LOCALIZAÇÃO DE OBJETOS NO ESPAÇO.

NOME:

UNIDADE ESCOLAR:

1. AS CRIANÇAS ESTÃO APOSTANDO UMA CORRIDA DE BICICLETA. OBSERVE A IMAGEM!



Disponível em: <https://br.pinterest.com/pin/723038915174371368/>. Acesso em: 23 de mar. de 2021.

A) QUAL CRIANÇA ESTÁ EM PRIMEIRO LUGAR NA CORRIDA?


B) QUAL CRIANÇA ESTÁ EM ÚLTIMO LUGAR NA CORRIDA?

2. OBSERVE A FIGURA A SEGUIR. CHICO BENTO E ZÉ LELÉ ESTÃO LEVANDO A ROSINHA PARA UM PASSEIO DE BURRINHO.

A) QUEM ESTÁ EM CIMA DO BURRINHO?


B) QUEM ESTÁ NA FRENTE DO BURRINHO?

C) QUEM ESTÁ ATRÁS DO BURRINHO?



DANTE, luiz roberto. Ápis: alfabetização matemática. 2.ed. – São Paulo: ática, 20014. Acesso em: 23 de mar. De 2021.

3. VOCÊ CONHECE OS ANIMAIS DA IMAGEM A SEGUIR? VAMOS COMPARAR ALGUMAS MEDIDAS?




A) QUAL ANIMAL TEM O PESCOÇO MAIS CURTO?

B) QUAL ANIMAL TEM O PESCOÇO MAIS COMPRIDO?

Disponível em: <https://br.pinterest.com/pin/426364289728786120/>. Acesso em: 24 de mar. de 2021.

4. OBSERVE COM ATENÇÃO A FIGURA A SEGUIR DAS CRIANÇAS NA SALA DE AULA.



JOSÉ ESTÁ SENTADO

(A) ☐ À ESQUERDA DE MARIA.


(B) ☐ À DIREITA DE PEDRO.

(C) ☐ À ESQUERDA DE ANA.

(D) ☐ À DIREITA DE JÚLIA.

Disponível em: <https://www.pinterest.ph/pin/43980533848231649/>. Acesso em: 23 de mar. de 2021

5. OBSERVE O SÍTIO QUE CHICO BENTO MORA COM SEUS PAIS E RESPONDA:



A) O ANIMAL QUE ESTÁ MAIS PERTO DO CHICO BENTO É

B) O ANIMAL QUE ESTÁ MAIS LONGE DO CHICO BENTO É

Disponível em: https://monica.fandom.com/pt-br/wiki/S%C3%ADtio_do_Chico_Bento. Acesso em: 24 de mar. de 2021

6. OBSERVE AS FIGURAS A SEGUIR E MARQUE SOMENTE A ALTERNATIVA QUE POSSUI OBJETOS **DIFERENTES**.

A) ()



B) ()



C) ()




D) ()



Disponível em: <https://br.pinterest.com/pin/234750199315495556/>. Acesso em : 25 de mar. de 2021.

7. OBSERVE COM ATENÇÃO OS PÁSSAROS DA IMAGEM A SEGUIR.



Disponível em: <https://br.pinterest.com/pin/332492384972918525/>. Acesso em: 23 de mar. de 2021.

QUANTOS PÁSSAROS ESTÃO DENTRO E FORA DA GAIOLA?

- A) () DOIS PÁSSAROS **DENTRO** E CINCO PÁSSAROS **FORA** DA GAIOLA.
- B) () TRÊS PÁSSAROS **DENTRO** E NOVE PÁSSAROS **FORA** DA GAIOLA.
- C) () DOIS PÁSSAROS **DENTRO** E ONZE PÁSSAROS **FORA** DA GAIOLA.
- D) () DOIS PÁSSAROS **DENTRO** E DEZ PÁSSAROS **FORA** DA GAIOLA.