

1

2

3

4

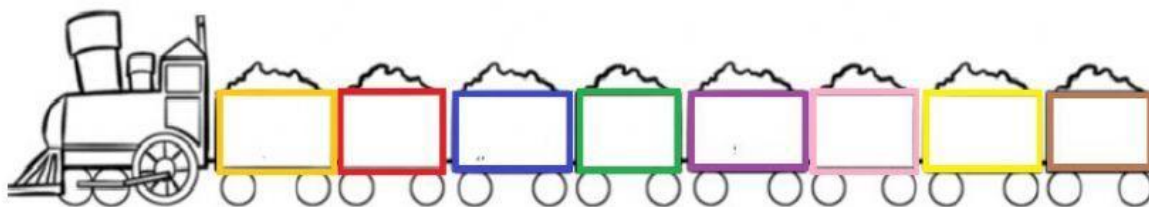
5

MATEMÁTICAS

I. DESARROLLA LOS SIGUIENTES EJERCICIOS.

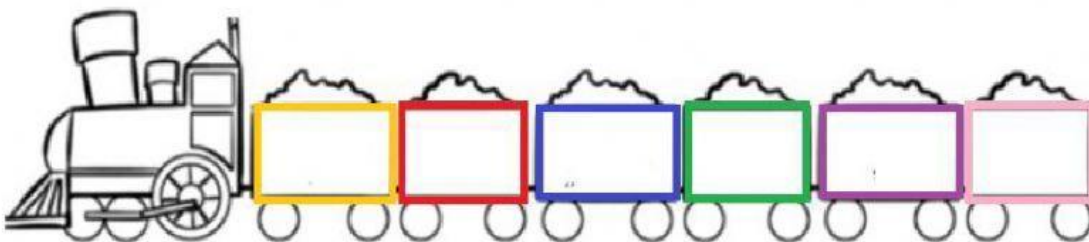
A) Debes crear un patrón **ASCENDENTE** con los siguientes números de 1 en 1.

7 - 0 - 3 - 1 - 4 - 2 - 5 - 6




B) Debes crear un patrón **DESCENDENTE** con los siguientes números de 1 en 1.

18 - 20 - 16 - 17 - 15 - 19




C) Debes crear un patrón **ASCENDENTE** con los siguientes números de 2 en 2.

8 - 2 - 6 - 4



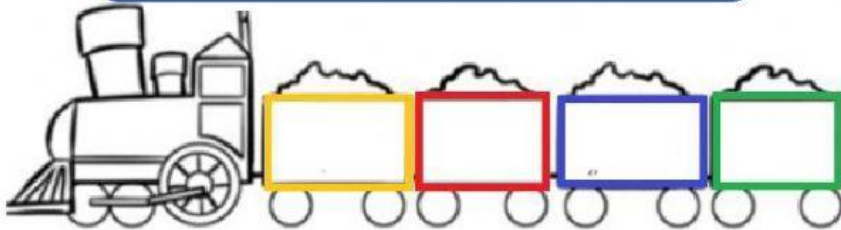
D) Debes crear un patrón **DESCENDENTE** con los siguientes números de 2 en 2

18 – 14 – 16 – 12

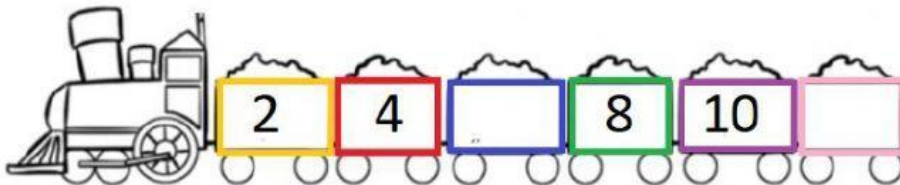


E) Debes crear un patrón **ASCENDENTE** con los siguientes números de 5 en 5

20 – 5 – 15 – 10

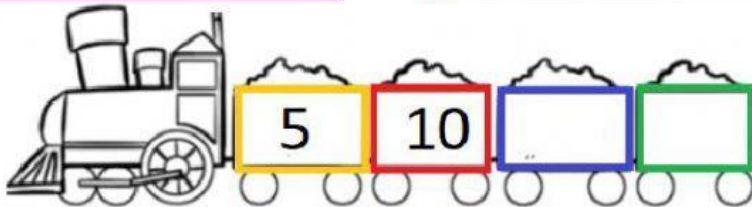


II. ¿**Q**ué números faltan en las siguientes secuencias?
selecciona la alternativa correcta.



A) 3 - 11

B) 6 - 12



A) 15 - 20

B) 11 - 12

