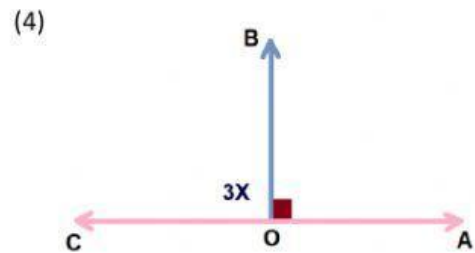
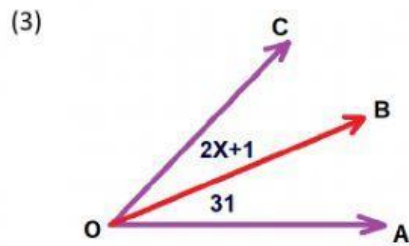
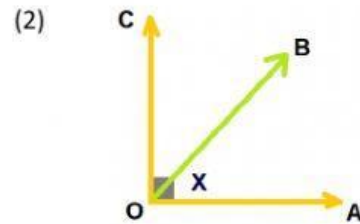
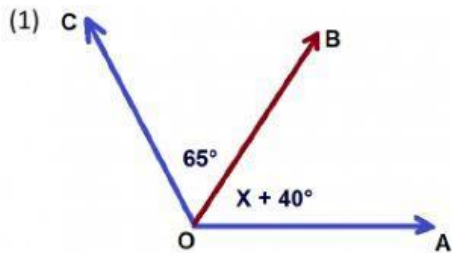
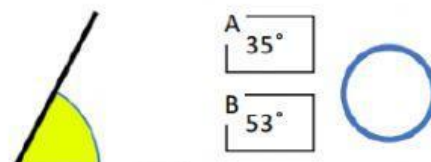
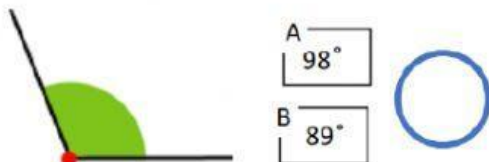


ÁNGULOS Y BISECTRIZ


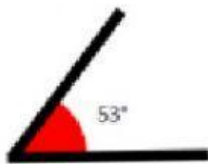
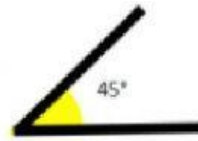
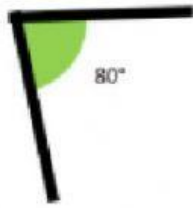
SEA \overrightarrow{OB} BISECTRIZ DEL ÁNGULO \hat{AOC} , HALLAR EL VALOR DE "X" EN CADA CASO:



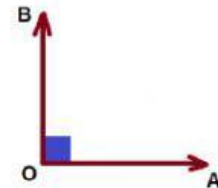
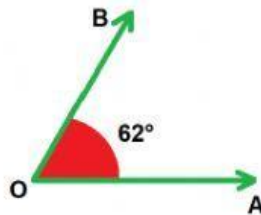
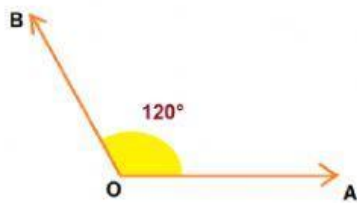
SIN USAR EL TRANSPORTADOR, INDICA ¿CUÁNTO PUEDEN MEDIR LOS SIGUIENTES ÁNGULOS? ESCRIBE A O B EN EL CÍRCULO AZUL.



HALLA EL COMPLEMENTO DE CADA ÁNGULO:



HALLA EL SUPLEMENTO DE CADA ÁNGULO:



ESCRIBE LA CLASE DE ÁNGULO A LA QUE SE REFIERE EL GRÁFICO:

