
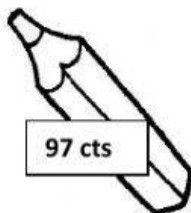

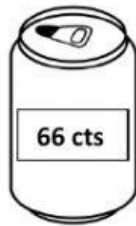


1. Elige el menor número de monedas para comprar lo siguiente e introdúcelo en el monedero correspondiente:

MONEDEROS



2. Carlota se ha comprado un artículo que le ha costado 67 céntimos y ha pagado con una moneda de 1€:

- ¿Cuánto dinero le han devuelto? _____
- ¿Con qué mínimo de monedas se lo devolverán?



3. Sergio ha comprado un chicle de 5 céntimos, una piruleta de 20 céntimos y un regaliz de 7 céntimos. Paga con una moneda de 50 cts. Calcula:

- El precio total que debe pagar: _____
- El cambio que le tienen que devolver: _____
- Con el dinero que le han devuelto, ¿cuántos chicles podría comprarse sin pasarse? _____