



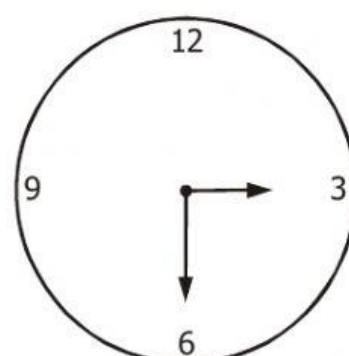
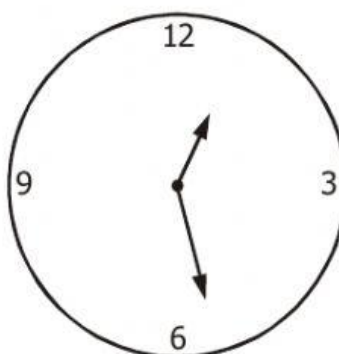
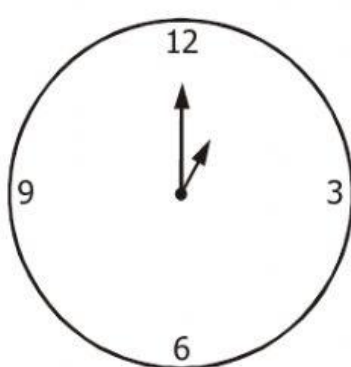
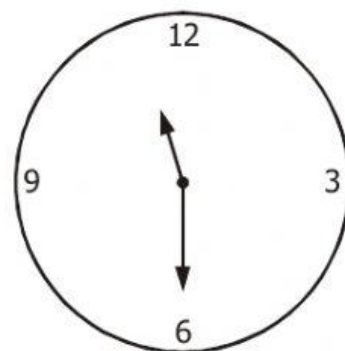
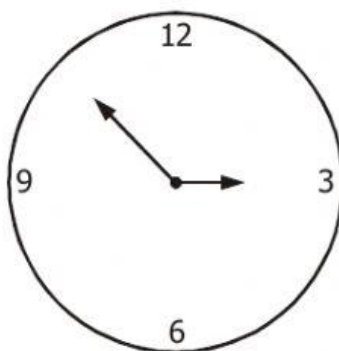
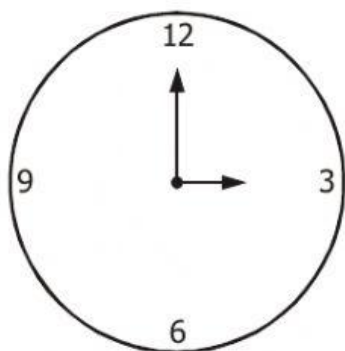
Geometría

Tercer grado

## LOS ÁNGULOS Y SU CLASIFICACIÓN



1.- Observa las agujas del reloj e identifica la clase de ángulo que se forma



2.- Une según corresponda:

Ángulo agudo

es el que mide más de  $90^\circ$

Ángulo recto

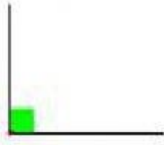
es el que mide menos de  $90^\circ$

Ángulo obtuso

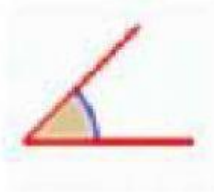
es el que mide  $90^\circ$




3.- Relaciona correctamente:



ÁNGULO OBTUSO





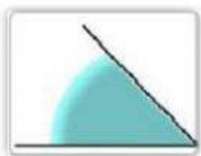


ÁNGULO RECTO



ÁNGULO AGUDO

4.- Clasifica estos ángulos



ÁNGULOS  
AGUDOS



ÁNGULOS  
RECTOS



ÁNGULOS  
OBTUSOS

