

1) DONA VÂNIA COMPROU OVOS PARA FAZER UM DELECIOSO PUDIM. QUANTOS OVOS ELA COMPROU?




MEIA DÚZIA

1 DÚZIA

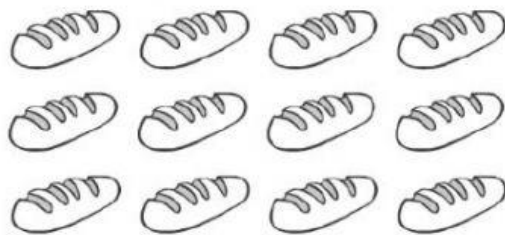
2 DÚZIAS

1 DÚZIA E MEIA

2) QUANTOS PÃES HÁ EM CADA CASO?

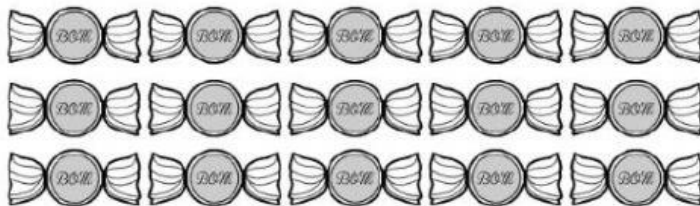


HÁ _____ PÃES OU
_____ DÚZIA DE PÃES



HÁ _____ PÃES OU
_____ DÚZIA DE PÃES

3. FORME GRUPOS COM MEIA DÚZIA DE DOCES CONTORNANDO COM UMA LINHA CADA GRUPO FORMADO:



A. QUANTOS GRUPOS FOI POSSÍVEL FORMAR?

B. HOUVE SOBRA DE DOCES?

C. SOBRARAM QUANTOS DOCES?



Para fixar
na cuca:

UMA DÚZIA = 12 UNIDADES
MEIA DÚZIA = 6 UNIDADES