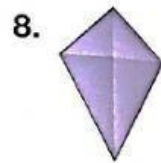
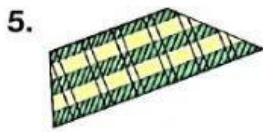
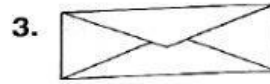

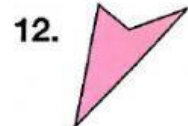

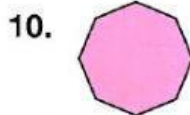



Figuras planas

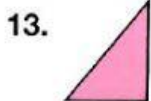
Di a qué figura plana se parece cada objeto.



Selecciona las figuras planas que son cuadriláteros.



Nombra cada figura y escribe cuántos lados, vértices y ángulos tiene cada una.



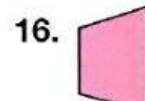
nombre: _____
lados: _____
vértices: _____
ángulos: _____




nombre: _____
lados: _____
vértices: _____
ángulos: _____



nombre: _____
lados: _____
vértices: _____
ángulos: _____



nombre: _____
lados: _____
vértices: _____
ángulos: _____



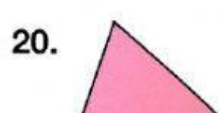
nombre: _____
lados: _____
vértices: _____
ángulos: _____



nombre: _____
lados: _____
vértices: _____
ángulos: _____



nombre: _____
lados: _____
vértices: _____
ángulos: _____



nombre: _____
lados: _____
vértices: _____
ángulos: _____

Solución de problemas verbales.

21. Un octágono tiene 8 lados y 8 vértices. ¿Qué figura en los ejercicios 1 a 12 es un octágono?

Es la figura número _____

22. Fíjate en las señales de la derecha. ¿Cuál es un octágono? ¿Cuál es un círculo? ¿Cuál es un rectángulo?

octágono:

círculo:

rectángulo:

