



AVALIAÇÃO BIMESTRAL DE MATEMÁTICA 1º BIMESTRE – 2º ANO

ALUNO(A): _____

PROFESSORA _____

DATA: 28/04/2021.

1- EM NOSSOS ESTUDOS VIMOS QUE PODEMOS ENCONTRAR OS NÚMEROS EM VARIADOS LUGARES NO NOSSO DIA A DIA: PREÇOS, CONTAGENS, MEDIDAS ENTRE OUTROS.

QUE TAL ESCREVER NO TRAÇO ABAIXO, O NOME DA IMAGEM ONDE OS NÚMEROS SÃO USADOS?

A)




B)



C- QUANTAS PESSOAS MORAM EM SUA CASA? _____

D- VOCÊ SABE ONDE MAIS OS NÚMEROS SÃO USADOS? **ESCREVA MAIS UM EXEMPLO.**


2- ESTA LOJA DE BRINQUEDOS ESTÁ VENDENDO VÁRIOS PRODUTOS A PREÇOS BEM ESPECIAIS. VEJA SÓ:




15 REAIS



20 REAIS



21 REAIS




12 REAIS

Fonte: <http://atividadesemacanosiniciais.blogspot.com/2014/04/matematica.html>

3- VAMOS ORGANIZAR OS PREÇOS DOS BRINQUEDOS EM **ORDEM CRESCENTE**, OU SEJA, DO MAIS BARATO PARA O MAIS CARO?

4- QUERO O BRINQUEDO QUE CUSTA 12 REAIS. VOCÊ SABE QUAL DAS OPÇÕES ABAIXO É A QUANTIA EXATA DE QUE PRECISO PARA COMPRAR O BRINQUEDO?

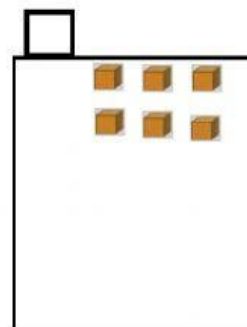
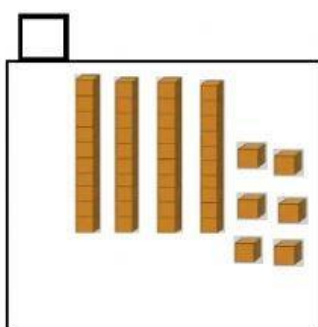
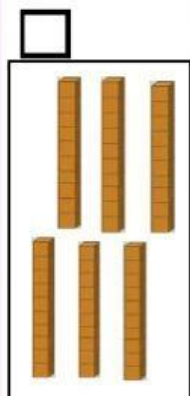


5- NA MESMA LOJA DE BRINQUEDOS TAMBÉM ENCONTREI ESSA QUANTIDADE DE BOLINHAS. VAMOS ORGANIZAR ESSA QUANTIDADE DE BOLINHAS NO QUADRO DE DEZENAS E UNIDADES E DESCOBRIR QUE NÚMERO FORMOU?



GRUPOS DE 10 OU DEZENAS	UNIDADES SOLTAS (OU QUE SOBRARAM)

B) COMO ESSA QUANTIDADE É REPRESENTADA COM O MATERIAL DOURADO?



6- O QUADRO ABAIXO REPRESENTA AS GAVETAS DE UM ARMÁRIO DA LOJA DE BRINQUEDOS. REPARE QUE ESTÃO FALTANDO MUITOS NÚMEROS, NÃO É MESMO? VAMOS COMPLETAR COM OS NÚMEROS QUE FALTAM E FORMAR A SEQUÊNCIA CORRETA?

		2							
10									

7- LEIA A RETA NUMÉRICA EM ORDEM CRESCENTE E DEPOIS É SÓ RESPONDER AOS DESAFIOS, VAMOS LÁ?



A- QUAL É O ANTECESSOR DE 10?

() 8

() 11

() 9

C) QUAL É O SUCESSOR DE 11?

() 10

() 12

() 13

D) LEMOS: $5 > 4$

() 5 É MENOR DO QUE 4.

() 5 É MAIOR DO QUE 4.

E) QUAL É MENOR: 15 OU 13?

() 13 É MENOR DO QUE 15.

() 15 É MENOR DO QUE 13.

8- VAMOS CANTAR UM POUCO? VOCÊ CONHECE A PARLENDAS DA GALINHA DO VIZINHO? QUE TAL COMPLETAR A CANTIGA E ARRASTAR A QUANTIDADE DE OVOS REFERENTE A CADA NÚMERO?

A GALINHA DO VIZINHO

(CANTIGA POPULAR- DOMÍNIO PÚBLICO)

GALINHA DO VIZINHO

BOTA OVO AMARELINHO

BOTA UM	1		
BOTA DOIS			
BOTA TRÊS	3		
BOTA QUATRO			
BOTA CINCO	5		
BOTA SEIS			
BOTA SETE	7		
BOTA OITO			
BOTA NOVE	9		
BOTA DEZ			

A) AGORA VAMOS ORGANIZAR OS NÚMEROS QUE APARECEM NA PARLENDAS EM ORDEM DECRESCENTE, DO MAIOR PARA O MENOR?


CALENDÁRIO:

ABRIL – 2021						
DOMINGO	SEGUNDA	TERÇA	QUARTA	QUINTA	SEXTA	SABADO
				1	2	3
4	5	6	7	8	9	10
11	12	13	14	15	16	17
18	19	20	21	22	23	24
25	26	27	28	29	30	

9- APÓS LER O CALENDÁRIO, VAMOS RESPONDER A ALGUNS DESAFIOS?

- A) ESSE CALENDÁRIO É DE QUAL MÊS? _____
- B) QUAL É O ÚLTIMO DIA DESSE MÊS? _____
- C) QUE DIA DA SEMANA É HOJE? _____
- D) QUE DIA DA SEMANA FOI ONTEM? _____
- E) O ÚLTIMO DIA DA SEMANA É _____
- F) EM QUAL DIA DA SEMANA ESTÁ O 1º DIA DESSE MÊS? _____

OBSERVE A PINTURA A SEGUIR.



ESTA OBRA DE ARTE É DA ARTISTA PLÁSTICA ARACY ABREU AMARAL.

COM BASE NA OBRA DE ARTE DE ARACY, LEIA O GRÁFICO E DEPOIS RESPONDA:

ELEMENTOS REPRESENTADOS NA OBRA DE ARTE DE ARACY

6							
5							
4							
3							
2							
1							
		CASAS		CRIANÇAS		VACAS	

- A) QUAIS SÃO OS ELEMENTOS DA OBRA DE ARTE QUE **NÃO** FORAM REPRESENTADOS NO GRÁFICO? _____
- B) QUAL É O ELEMENTO QUE HÁ EM **MENOR** QUANTIDADE?
() CRIANÇAS E VACAS () CRIANÇAS E CASAS
- C) HÁ **MAIS** CASAS OU VACAS? _____
- D) OLHANDO A OBRA **DE FRENTE**, AS VACAS ESTÃO À **DIREITA** OU À **ESQUERDA** DAS CRIANÇAS? _____