



Tema: Noción de multiplicación por 3 y 5.

Actividad 1: Observa lo que se representa y completa utilizando la suma y la multiplicación.



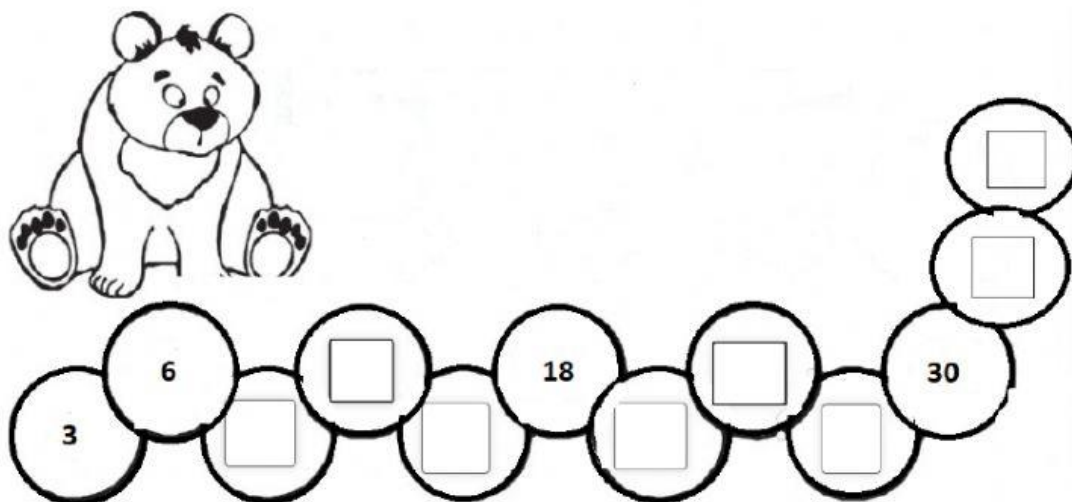
$$\square + \square + \square + \square + \square + \square + \square = \square$$

$$\square \times \square = \square$$


$$\square + \square + \square + \square = \square$$

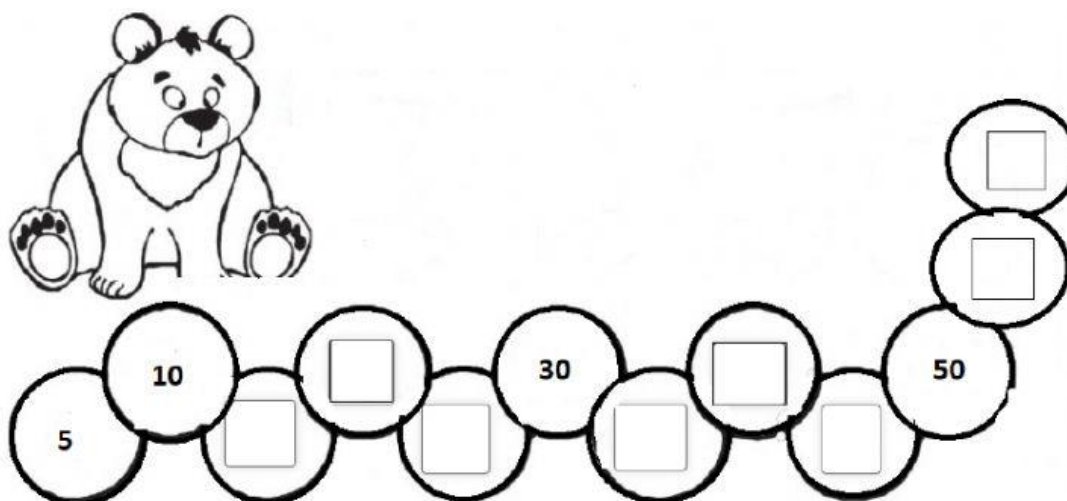
$$\square \times \square = \square$$

Actividad 2: Completa la serie contando de tres en tres.



3, 6, , 18, , 30

Completa la serie contando de cinco en cinco.



Actividad 3: Observa y escribe como se lee.

$3+3+3+3+3+3+3+3+3+3= 30$	10 veces 3 es igual a treinta
$5+5+5+5+5=$	
$3+3+3+3=$	
$5+5+5+5+5+5+5+5+5+5=$	
$3+3+3+3+3+3=$	
$5+5=$	



¡Muy buen trabajo!

