

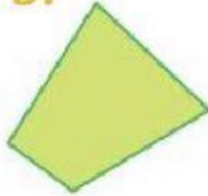
Polígonos 1

1. Indica el nombre de los siguientes polígonos según sus lados e indica si son regulares o irregulares.


a.




b.



c.



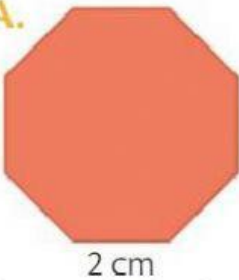
d.



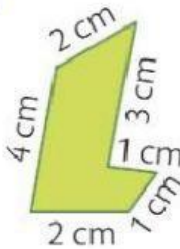
Nombre A:	Regular	Irregular
Nombre B:	Regular	Irregular
Nombre C:	Regular	Irregular
Nombre D:	Regular	Irregular

2. Fíjate en las siguientes figuras y pon debajo según sus lados, de qué polígono se trata y calcula su perímetro:

A.




B.



C.



D.

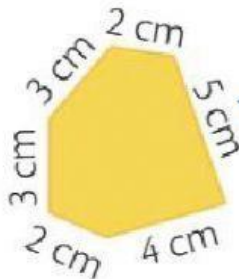
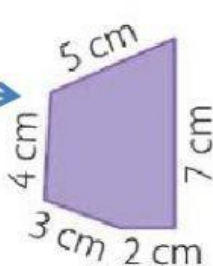


3. Ahora calcula el perímetro:

Figura A:	cm
Figura B:	cm
Figura C:	cm
Figura D:	cm

4. ¿Quién ha dibujado cada polígono?

niño
niña



niño
niña

