








ACTIVIDAD DE REPASO CONTEO DE NÚMERO HASTA EL 10

NOMBRE	FECHA
---------------	--------------

1. ¿cuántos hay? Indica el número de la cantidad de especies marinas que se encuentran en la pecera, esta debe ser anotado en la parte inferior



	<input style="width: 40px; height: 40px; border: 1px solid black;" type="text"/>		<input style="width: 40px; height: 40px; border: 1px solid black;" type="text"/>
	<input style="width: 40px; height: 40px; border: 1px solid black;" type="text"/>		<input style="width: 40px; height: 40px; border: 1px solid black;" type="text"/>

1. Observa los grupos de los diferentes animales y realiza el conteo, luego escribe el número que corresponda.

