



UNIDAD EDUCATIVA MONTESSORI
PRUEBA TRIMESTRAL
ÁREA MATEMÁTICA

1. Haz click en la opción correcta:

En el parque de Auquisamaña Luisa encontró 4 tarjetas con los dígitos:

5	8	3	9
---	---	---	---

Un viento travieso cambió de posición a las tarjetas y formó el menor.
¿Cuál es el número menor que se formó?

3958

3589

9853

2. ¿Qué número se forma con 2 decenas, 3 unidades, 4 unidades de mil y 9 centenas?

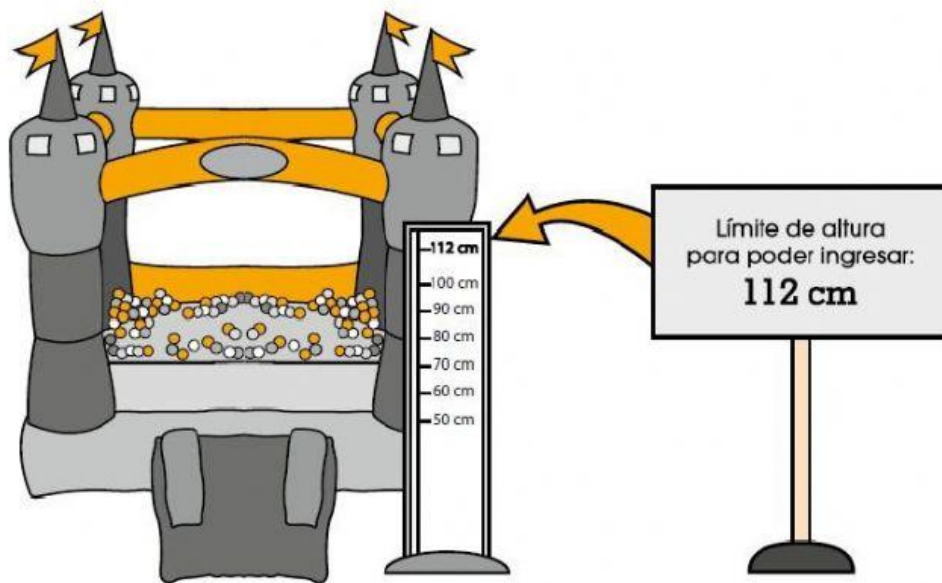
3 294

9 324

9 432

4 923

3. Observa el cartel encontrado en un juego para niños, realiza el cálculo y marca la respuesta correcta.



¿Cuál es el límite de altura aproximado a las centenas?

100 cm

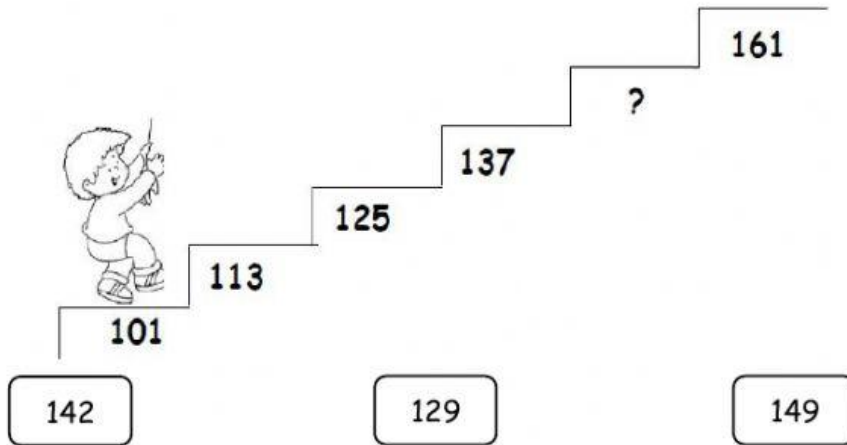
110 cm

200


4. 3 decenas de mil son decenas.

5. El número 20 540 se lee:

6. Leonardo quiere subir escalones y se da cuenta que falta el numeral en uno de ellos. Ayúdale a descubrir cuál es el número: (Haz click en el número que falta)



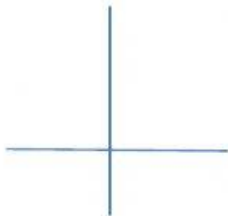
7. Une los pares de rectas con su nombre:



RECTAS SECANTES OBLICUAS



RECTAS SECANTES PERPENDICULARES



RECTAS PARALELAS