





Segna con una x quando l'affermazione è vera.				
Ha due coppie di lati paralleli				
Ha solo una coppia di lati paralleli				
Tutti i lati opposti sono paralleli				
Ha 4 angoli retti				
Ha due angoli acuti e due ottusi				
Ha solo due lati congruenti				
Non ha lati congruenti				
Ha 4 lati congruenti				
Ha i lati congruenti a due a due				

DISEGNA SUL QUADERNO

1. Disegna un quadrilatero con una sola coppia di lati paralleli, i lati non congruenti e due angoli retti.
2. Disegna un parallelogramma con tutti gli angoli congruenti e due coppie (diverse) di lati congruenti.
3. Scrivi il nome delle figure che hai disegnato