

EVALUACIÓN GRADO CUARTO

Nombre: _____

1. Completa con estas palabras:

LLANO

RECTO

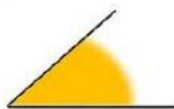
AGUDO

OBTUSO

90°

180°

• Este ángulo es un ángulo



• Un ángulo recto mide

• Este ángulo



se llama ángulo

• Este ángulo



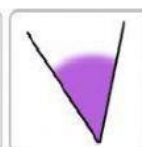
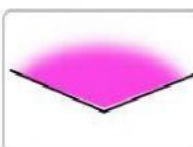
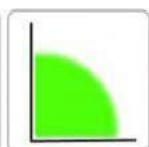
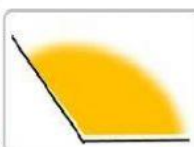
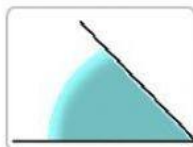
es un ángulo

• Este ángulo



es un ángulo

2. Clasifica estos ángulos según sean agudos, obtusos o rectos.



ÁNGULOS
RECTOS



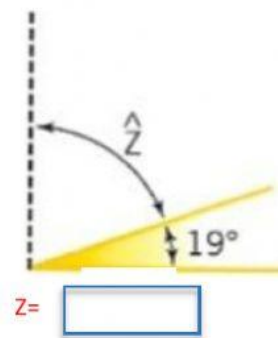
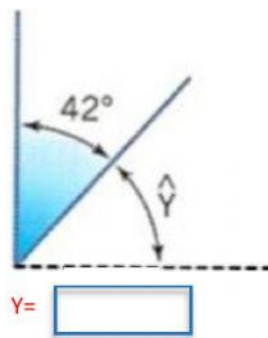
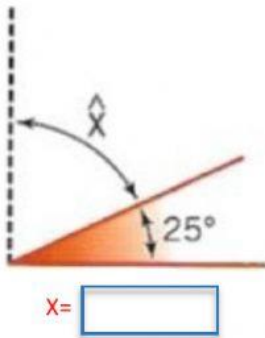
ÁNGULOS
AGUDOS



ÁNGULOS
OBTUSOS



3. Calcula la medida del ángulo complementario en cada caso



4. Calcula la medida del ángulo suplementario a estos.

