



Kilogramo, medio kilo y cuarto de kilo

1. Elige la respuesta correcta:

¿Cuántos medios kilos son...?



12




6



8



¿Cuántos cuartos de kilo son...?



12



14



4



Calendario

Elige la respuesta correcta:



- Una década son .
- Un trimestre son .
- 5 años forman un .
- Dos semestres forman un .
- 100 años forman un .
- Dos lustros son .

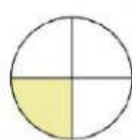
¿Qué hora es en cada reloj? Elige la respuesta correcta:



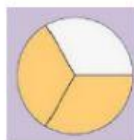




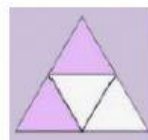
Une con flechas la fracción que representa cada dibujo:



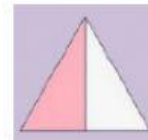
$$\frac{1}{2}$$



$$\frac{1}{4}$$



$$\frac{2}{3}$$



$$\frac{2}{4}$$