



MUNICÍPIO DA ESTÂNCIA BALNEÁRIA DE PRAIA GRANDE

Estado de São Paulo
SEDUC - Secretaria de Educação

SEMANAS 9 e 10

SALA DE AULA



Disciplina: Matemática

1º ano do Ensino Fundamental

1. ESCREVA EM SEU CADERNO OS NÚMEROS CORRESPONDENTES A ESCRITA:

A) DEZ

B) DOZE

C) UM

D) CINCO

2. OBSERVE OS NÚMEROS E COLOQUE-OS EM ORDEM CRESCENTE:

5 8 14 10 2

3. REGISTRE EM SEU CADERNO O ANTECESSOR E O SUCESSOR DE CADA NÚMERO:

A) 10

B) 15

C) 2

D) 18

4. ASSINALE EM SEU CADERNO AS ALTERNATIVAS CUJO RESULTADO ESTEJA DE ACORDO COM O NÚMERO EM DESTAQUE:

13


A) $7 + 7$

B) $9 + 4$

C) $8 + 3$

D) $14 - 1$

5. OBSERVE A CENA EM SEGUIDA RESPONDA AS QUESTÕES EM SEU CADERNO:



A) QUANTAS CRIANÇAS ESTÃO AGUARDANDO A VEZ DE USAR O BALANÇO?

B) QUANTAS CRIANÇAS ESTÃO NA FILA DO ESCORREGADOR?

C) QUANTAS CRIANÇAS TÊM AO TODO NA CENA?

6. ESCREVA EM SEU CADERNO QUANTOS REAIS HÁ EM CADA QUADRO:



A



B



C

7. SOME EM SEU CADERNO OS VALORES DAS CÉDULAS:



A













_____ + _____ = _____

B



_____ + _____ = _____

OS **NÚMEROS ORDINAIS** SÃO USADOS PARA INDICAR POSIÇÃO, ORDEM OU LUGAR.
OBSERVE AS CRIANÇAS NA FILA:

1º									
									
ELISA	SOFIA	KAIO	ANA	GAEL	ISA	THÉO	ZOE	NOAH	ENZO

8. SABENDO QUE ELISA É A 1ª CRIANÇA DA FILA COMPLETE EM SEU CADERNO OS NÚMEROS ORDINAIS DE ACORDO COM A POSIÇÃO DE CADA CRIANÇA:

9. QUANTAS CRIANÇAS ESTÃO NA FILA ?

10. QUEM OCUPA A DÉCIMA POSIÇÃO?

11. QUEM OCUPA A OITAVA POSIÇÃO?

12. QUAL POSIÇÃO É OCUPADA POR ANA?