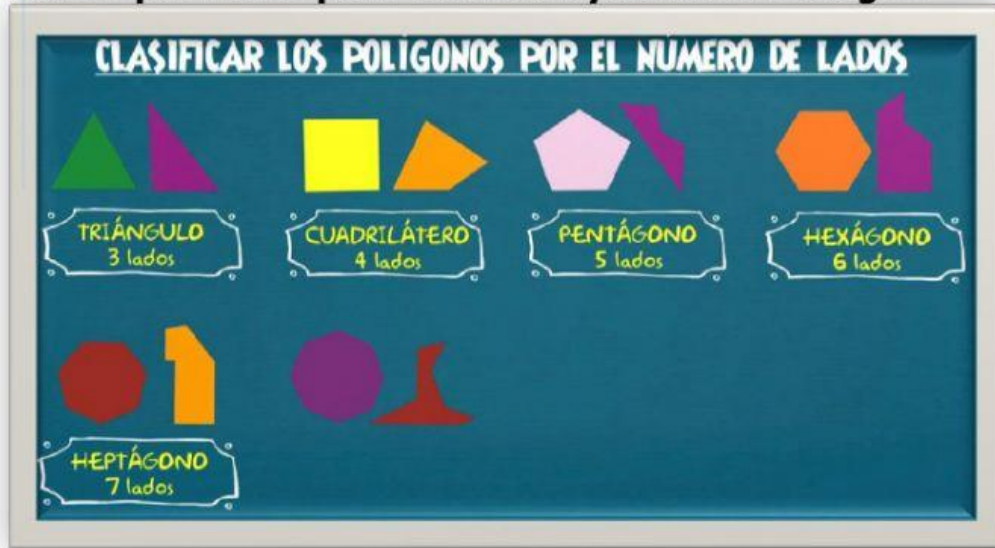


# ¡A ponerse a prueba con los polígonos!

Pero antes de empezar... repasa el tema leyendo esta imagen.



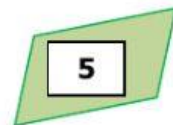
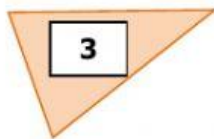
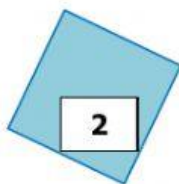
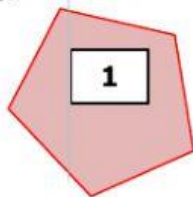
Su nombre depende de cuántos ángulos y lados tiene la figura.

Si sigues con dudas, mira el siguiente video para refrescar la memoria:



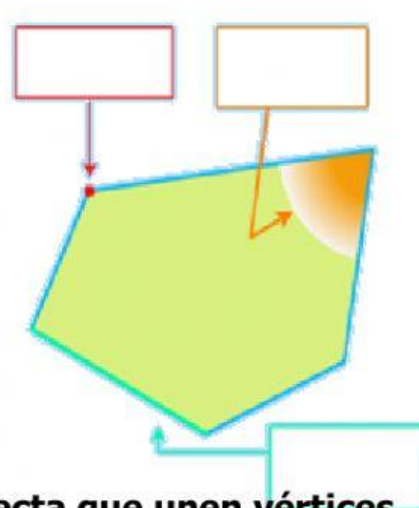
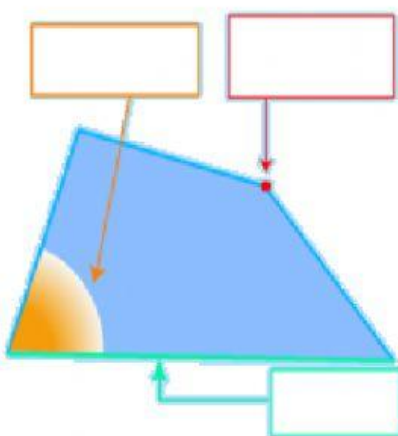
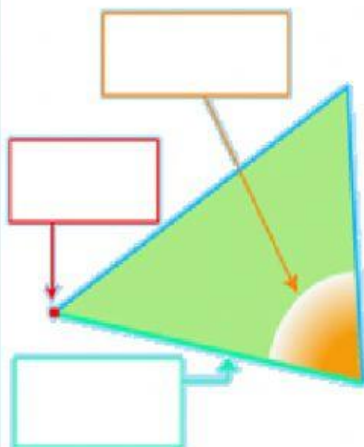
## CONSIGNAS:

1. Dados los siguientes polígonos indica su nombre, número de lados, vértices.



	1	2	3	4	5
Nombre de la figura					
Nº de lados					
Nº de vértices					
Pertenece a la Familia de los...					

2. Escribe el elemento que señala cada flecha y en cada figura.



3. Recuerda que las diagonales son segmentos de recta que unen vértices no consecutivos de una figura. Teniendo en cuenta lo anterior, traza las diagonales de la siguiente figura geométrica.

