

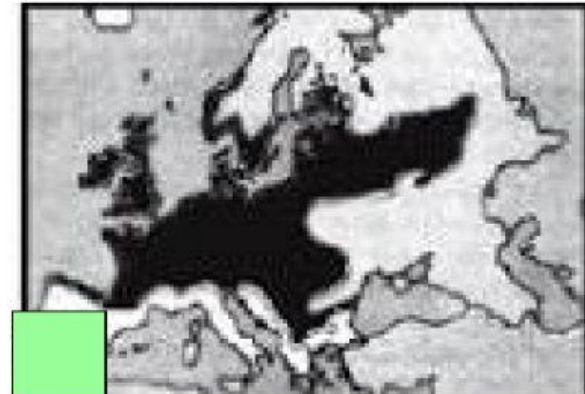
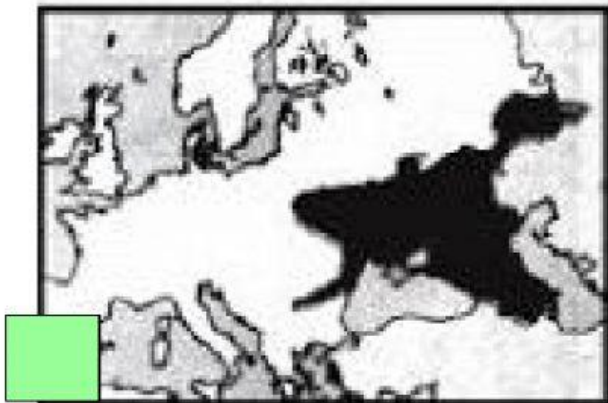
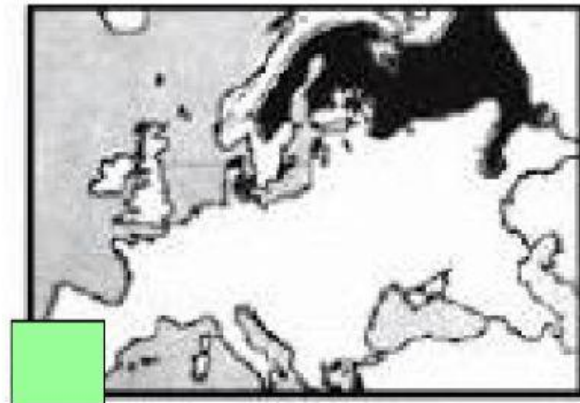


Nome:

Turma:

Profª: Eunice Serpa Azambuja

1- A Floresta boreal: é caracterizada pelo domínio das coníferas (pinheiros). As coníferas apresentam folhas duras e aciculifoliadas (em forma de agulha), cujas funções são impedir a acumulação da neve nas copas das árvores e reduzir o processo de evapotranspiração, pois as chuvas são raras na região. A região, onde essa floresta se desenvolve, possui duas estações do ano bem definidas: inverno bastante rígido e verão com temperaturas amenas, em torno de 20° C. No verão os dias são mais longos e, no inverno, os dias são mais curtos, com precipitação sob a forma de neve. Assinale o mapa que apresenta a localização correta dessa paisagem .



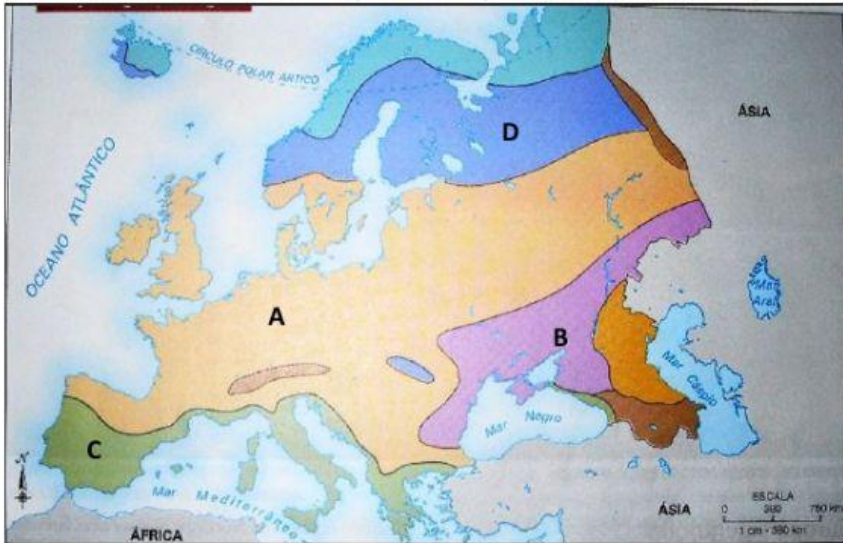
2. A Tundra é um tipo de bioma localizado no Hemisfério Norte do planeta, mais precisamente no norte da América, da Europa e em outras localidades. O seu nome advém da palavra finlandesa "Tunturia", que significa "planície sem árvores", o que já confere certa noção sobre como é esse tipo de vegetação e o seu ambiente. Em quais porções da Europa é comum encontrarmos a Tundra:

No centro seco e frio do temperado oceânico.  No norte frio e também nas elevadas altitudes das montanhas do sul.

No leste seco e arbustivo

No oeste do temperado oceânico úmido.

3- Observe as letras do mapa e no espaço ao lado identifique a formação correspondente:



A

B

C

D

4- Assinale a alternativa que caracteriza a região destacada.



O clima é influenciado pelos Alpes, as precipitações são intensas e responsáveis pela exuberante floresta.

O inverno é ameno e úmido e a seca existe porque a região é influenciada pelas condições atmosféricas do Saara.

O solo calcário e pedregoso permite a existência de riquezas minerais responsáveis pela principal atividade regional.

Prof<sup>a</sup> Eunice Serpa Azambuja

