

NOME \_\_\_\_\_

ATIVIDADE 01- ESCREVA POR EXTENSO AS UNIDADES, DEZENAS E CENTENAS.



# SISTEMA DE NUMERAÇÃO

UNIDADES	DEZENAS	CENTENAS
1 - <input type="text"/>	10 - <input type="text"/>	100 - <input type="text"/>
2 - <input type="text"/>	20 - <input type="text"/>	200 - <input type="text"/>
3 - <input type="text"/>	30 - <input type="text"/>	300 - <input type="text"/>
4 - <input type="text"/>	40 - <input type="text"/>	400 - <input type="text"/>
5 - <input type="text"/>	50 - <input type="text"/>	500 - <input type="text"/>
6 - <input type="text"/>	60 - <input type="text"/>	600 - <input type="text"/>
7 - <input type="text"/>	70 - <input type="text"/>	700 - <input type="text"/>
8 - <input type="text"/>	80 - <input type="text"/>	800 - <input type="text"/>
9 - <input type="text"/>	90 - <input type="text"/>	900 - <input type="text"/>

**ATIVIDADE 02-** LEIA O TEXTO E RESPONDA AS QUESTÕES.

**UMA FLORESTA DE CARINHO**

LOGO QUE NASCI  
MEU PAI PLANTOU UMA ÁRVORE  
ELA AGORA ESTÁ BEM GRANDE,  
BEM MAIOR DO QUE EU.  
ELA DÁ FRUTA BEM DOCE,  
ELA DÁ SOMBRA GOSTOSA,  
ELA DÁ FLOR BEM CHEIROSA  
E É POUSO DE PASSARINHO  
VOU GUARDAR AS SUAS SEMENTES  
PARA QUANDO EU FOR GRANDE  
E TIVER UM FILHINHO  
ELE VAI SER TÃO BONITO  
QUE, PARA ELE,  
VOU PLANTAR UMA FLORESTA!



Pedro Bandeira

**A-** ESTE TEXTO É:

( ) UM ANÚNCIO.

( ) UMA CARTA.

( ) UM POEMA.

**B-** QUAL O NOME DO AUTOR DESTE TEXTO?

**C-** QUAL É O TÍTULO DO TEXTO?


**D-** SEPARE AS SÍLABAS DAS PALAVRAS COLOCANDO UMA EM CADA QUDRADINHO.

<b>PASSARINHO</b>				
<b>FILHINHO</b>				
<b>FLORESTA</b>				
<b>NASCI</b>				
<b>FLOR</b>				




**ATIVIDADE 03-** LEIA AS INFORMAÇÕES SOBRE CADA UMA DAS PARTES DAS PLANTAS.


As plantas são seres vivos porque:


A raiz prende a planta no solo e dele retira a água e os sais minerais que a planta precisa.




O caule serve para segurar as folhas flores e frutos.



As folhas são responsáveis pela respiração da planta.



As flores servem para reprodução da planta. Delas são formados os frutos.



Os frutos guardam as sementes.

**ATIVIDADE 04-** ESCREVA O NOME DE CADA UMA DAS PARTES DAS PLANTAS NO ESQUEMA ABAIXO.

