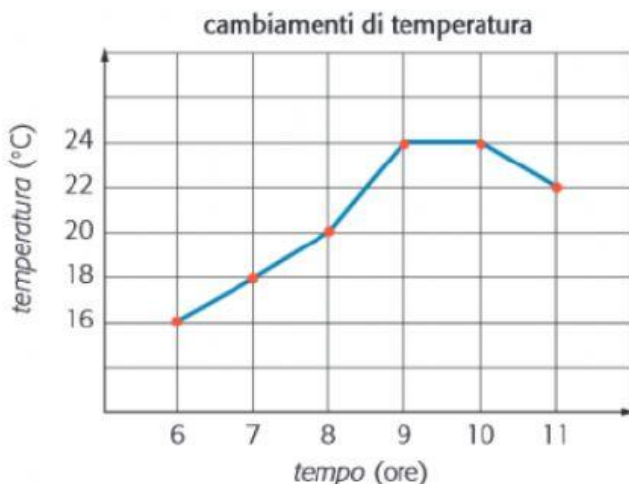
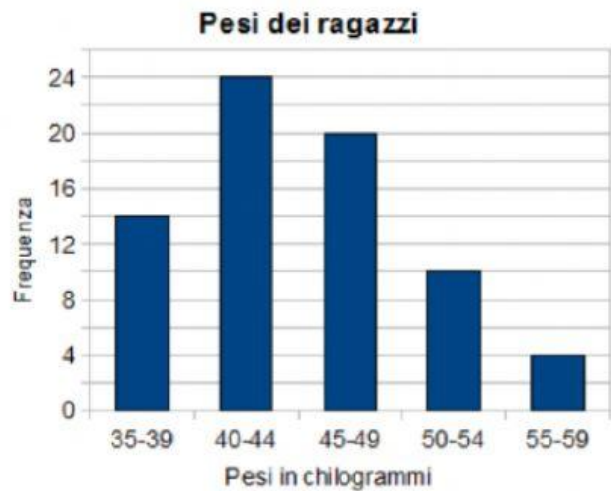


OSSERVA I GRAFICI E COMPLETA

ESERCIZIO 1: Il grafico qui a fianco rappresenta il peso in kg di alcuni ragazzi iscritti ad un centro sportivo


- 1) Quanti sono i ragazzi che pesano tra i 50 ed i 54Kg?
- 2) Quanti sono i ragazzi iscritti al centro sportivo?
- 3) Quanti ragazzi pesano MENO di 45kg?
- 4) Quanti ragazzi pesano PIU' di 49Kg?



ESERCIZIO 2: Usa la rappresentazione grafica per rispondere alle domande:

- 1) Quale temperatura è stata registrata alle 7? E alle 8? E alle 11?
- 2) Fra le 8 e le 9 la temperatura è calata, cresciuta o rimasta costante? E fra le 9 e le 10?
- 3) A quale ora si è registrata la temperatura più bassa? E la più alta?

ESERCIZIO 3: Osserva l'ideogramma e rispondi alle domande:



- 1) In quale anno si sono prodotte più mele? In quale anno meno?
- 2) Quante tonnellate di mele si sono prodotte nel 2000?
- 3) In quale anno si sono prodotte 50 tonnellate di mele? E 80?
- 4) Quante tonnellate di mele si sono prodotte in totale tra il 2000 e il 2003?