





# ORGANIZO DATOS EN TABLAS





Fermín cuenta los tipos de llaves que tiene.  
Completa la tabla.



Llave	Total
	
	
	
	

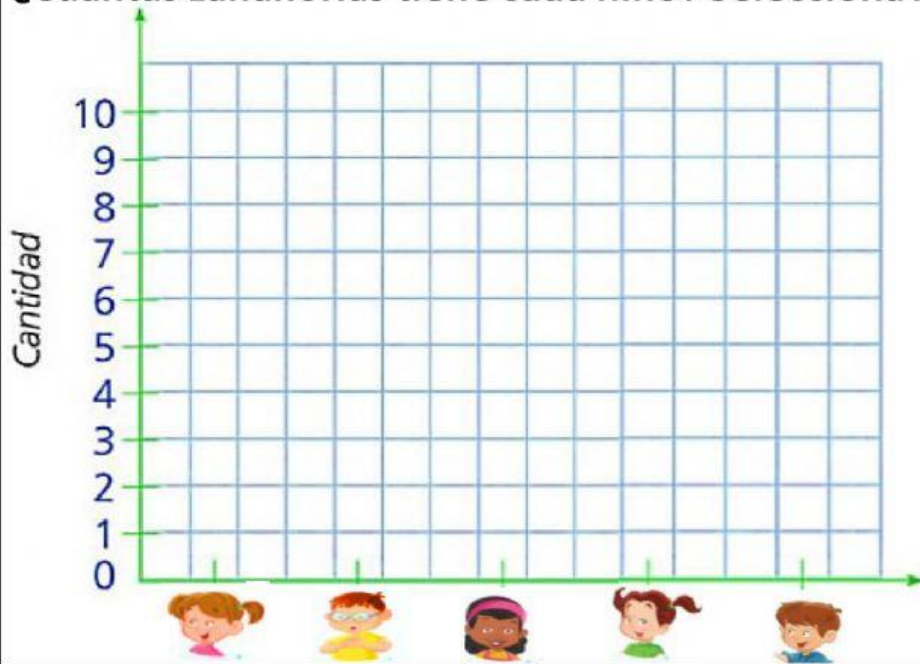
Doña Juana cuenta los dulces que preparó.  
Completa la tabla.



Dulces	Total
 Chocoteja	
 King kong	
 Alfajor	
 Chapana	

## ORGANIZO DATOS EN TABLAS

¿Cuántas zanahorias tiene cada niño? Selecciona la cantidad.



Niños y niñas	
Isabel	9
Richard	6
Pachy	5
Vicky	2
Nelson	4

Niños y  
niñas



Isabel

9

Richard

6

Pachy

5

Vicky

2

Nelson

4

## Observa y responde:

1. ¿Quién tiene **más** zanahorias? \_\_\_\_\_

2. ¿Quién tiene **menos** zanahorias? \_\_\_\_\_

3. ¿Quién tiene **más** zanahorias Pachy o Richard?

\_\_\_\_\_

4. ¿Quién tiene **menos** zanahorias Isabel o Nelson?

\_\_\_\_\_