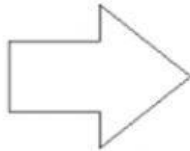


# SUMÁ O RESTÁ Y COMPLETÁ LOS ESPACIOS



$$\begin{array}{ccccccc} & +3 & & +2 & & -4 & & +9 \\ & \text{---} & & \text{---} & & \text{---} & & \text{---} \\ (26) & ( ) & & (31) & & ( ) & & ( ) \end{array}$$

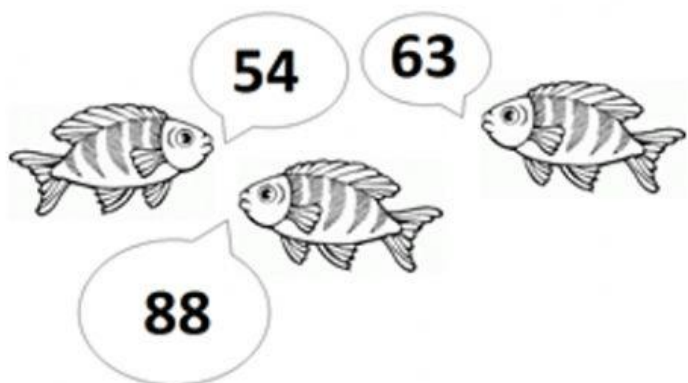
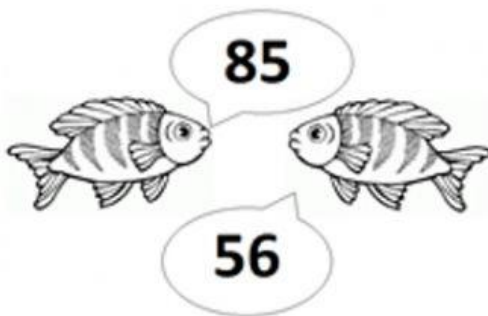
$$\begin{array}{ccccccc} & -1 & & +8 & & -2 & & +5 \\ & \text{---} & & \text{---} & & \text{---} & & \text{---} \\ (70) & ( ) & & ( ) & & ( ) & & ( ) \end{array}$$

$$\begin{array}{ccccccc} & +7 & & +3 & & -6 & & +2 \\ & \text{---} & & \text{---} & & \text{---} & & \text{---} \\ ( ) & ( ) & & (92) & & ( ) & & ( ) \end{array}$$

CADA MOJARRITA



TIENE SU NÚMERO, ORDENALOS DE MENOR A MAYOR



\*SEPARÁ LOS NÚMEROS POR UN GUIÓN

