

Membedakan Bunyi Kuat dan Bunyi Lemah



Nama :

No Absen :

Kerjakan Soal-Soal berikut !

1. Bagaimana bunyi pada gambar-gambar berikut ?
Tuliskan jawabannya di bawah gambar!

a.



b.



c.



2. Bunyi yang ditimbulkan benda berikut termasuk bunyi ...





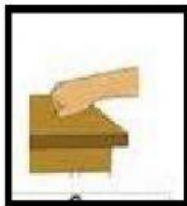
3. Contoh bunyi panjang berikut ini yaitu

- a. Bunyi jam beker
- b. Bunyi ketukan tangan
- c. Bunyi jantikan jari

4. Berilah tanda centang pada bunyi yang menandakan bunyi pendek!

- Bunyi jarum jam
- Bunyi peluit kereta api
- Bunyi lonceng

5. Tarik garis!
Manakah yang menimbulkan bunyi kuat dan lemah?



kuat





lemah



kuat



6. Siti membunyikan bunyi yang dihasilkan dari benda-benda berikut:



Urutkan gambar dari yang menghasilkan bunyi kuat ke lemah!
Klik/sentuh gambar, kemudian geser dan lepas di atas garis di bawah ini, sehingga runtut mulai dari benda yang menghasilkan bunyi paling kuat ke bunyi yang lemah!

