

# Evaluación matemática

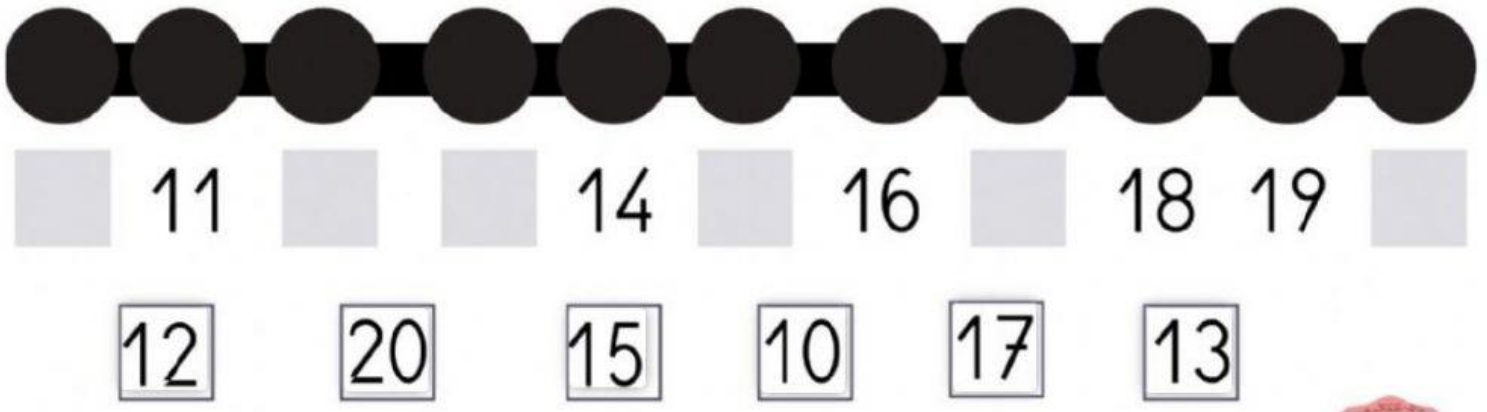
La siguiente actividad tiene el propósito de evaluar el progreso de los estudiantes en la asignatura de matemática.

## Indicaciones

- Responder cuando estés completamente seguro de tu respuesta.

## Preguntas:

1. ¿Qué números le faltan a la siguiente recta numérica? Arrastra la respuesta.



2. Utiliza la tabla de 100 y agrega los números contando de 1 en 1.

12- \_\_\_\_\_ - \_\_\_\_\_ - 15 - 16- \_\_\_\_\_ - \_\_\_\_\_



3. Escucha el audio y escribe los números.



4. Observa tu tablero del 100. Escribe el número que viene antes (quitar 1) y después (agregar 1).

	3	
	12	
	16	
	19	

- 5- Agrupa las manzanas de 2 en 2 y luego responde. Observa el ejemplo.



a) ¿Cuántas manzanas hay en total?

b) ¿Cuántos grupos de 2 manzanas hay?