

Lee el problema y luego responde.

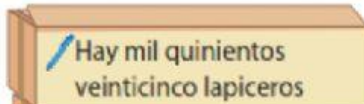
Arturo revisó el inventario de útiles de escritorio que dejó Salomón el fin de semana en el almacén de la empresa donde trabajan. Hoy debe registrar la cantidad de útiles que se muestra en cada caja. ¿Cuántos lapiceros, cuántos plumones y cuántos borradores hay?



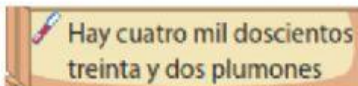
a) ¿Quién revisó el inventario?

b) ¿Qué debe registrar en cada caja?

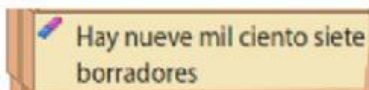
Relaciona cada caja con la cantidad de útiles.



| Um | C | D | U |
|----|---|---|---|
| 4 | 2 | 3 | 2 |



| Um | C | D | U |
|----|---|---|---|
| 9 | 1 | 0 | 7 |



| Um | C | D | U |
|----|---|---|---|
| 1 | 5 | 2 | 5 |