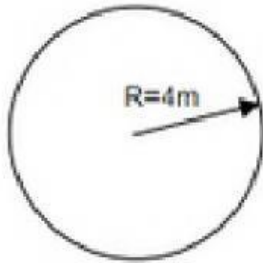


PROBLEMAS

¿Cuál es el área de los círculos?



a) Seleccione la fórmula que se va a utilizar

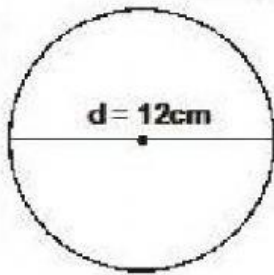
$$P = 2 \cdot \pi \cdot r$$

$$A = \pi \times r^2$$

b) Reemplace los datos:

$$A = \text{[input box]}$$

$$A = \text{[input box]} m^2$$



c) Seleccione la fórmula que se va a utilizar

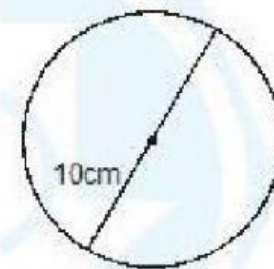
$$A = \pi \times r^2$$

$$P = 2 \cdot \pi \cdot r$$

d) Reemplace los datos:

$$A = \text{[input box]}$$

$$A = \text{[input box]} cm^2$$



e) Seleccione la fórmula que se va a utilizar

$$P = 2 \cdot \pi \cdot r$$

$$A = \pi \times r^2$$

f) Reemplace los datos:

$$A = \text{[input box]}$$

$$A = \text{[input box]} cm^2$$