

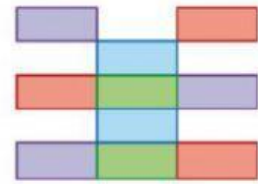
3 Halla el área de estas figuras y explica qué unidad utilizas en cada caso.



triángulos

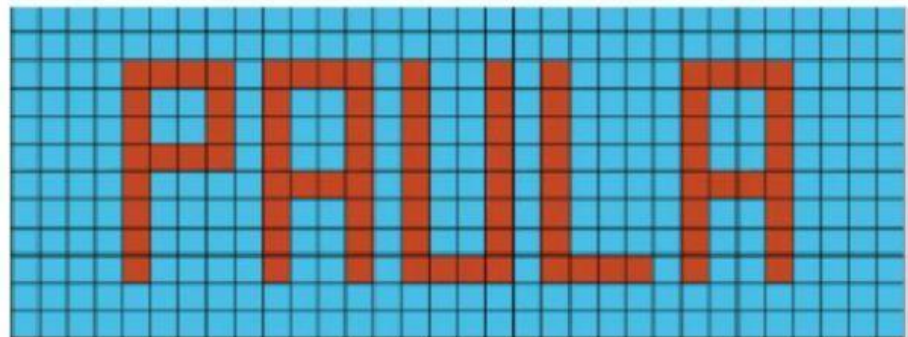


hexágonos



rectángulos

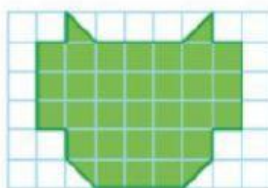
4 ¿Cuál es el área que ocupa este nombre? ¿Y su perímetro?



Área=      cuadrados

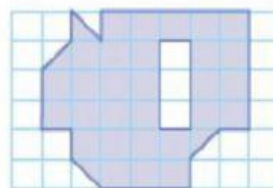
Perímetro =

6 Utiliza un cuadradito como unidad y calcula el área de estas figuras.



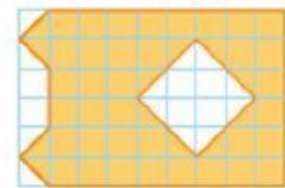
A

Área A=      cuadrados



B

Área B=      cuadrados



C

Área A=      cuadrados

¿Qué figuras tienen la misma área?      Y      (en mayúscula)

¿Tienen también la misma forma?

- 7  A la hora de cenar, el padre de Filo les pide que recojan, porque tienen más de la mitad de la mesa llena de fichas de dominó.



- Si las 28 fichas ocupan la cuarta parte de la mesa, ¿cuál es el área de la mesa? fichas
- Si utilizas como unidad media ficha, ¿cuál es el área de la mesa? medias fichas
- ¿Qué porcentaje de la mesa está ocupada por fichas de dominó? % de la mesa