



# Ulangan Harian Tema 7 Kelas 2

*SDN CIPAKU PERUMDA*

Nama Lengkap




Muatan Matematika - KD. 3.7

1. Sebuah melon dibagi menjadi 4 bagian sama besar. Setiap potongan melon dapat dinyatakan dengan pecahan ....


- a.  $\frac{1}{2}$
- b.  $\frac{1}{3}$
- c.  $\frac{1}{4}$

2. Arsiran pada gambar berikut yang menyatakan pecahan  $\frac{1}{2}$  adalah ....

a.




b.



c.



3. Setengah bagian dari sekelompok burung berikut adalah ....



- a. 6 ekor
  - b. 7 ekor
  - c. 8 ekor
4. Seperempat bagian dari 16 kupu-kupu adalah \_\_\_\_\_ kupu-kupu.
5. Ibu membeli persediaan 24 butir telur.  
Tentukan :
- a. Setengah bagiannya
  - b. Sepertiga bagiannya
  - c. Seperempat bagiannya