


NOMBRE DEL ALUMNO:

RESTA DE FRACCIONES

- ✓ Observa y coloca arriba de cada fracción su representación gráfica.
- ✓ A partir de lo que observas, trata de resolver cada resta de fracciones mentalmente.
- ✓ Escribe el resultado en el rectángulo.




6

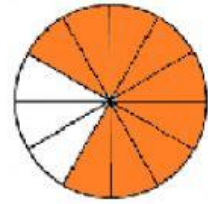
9

3

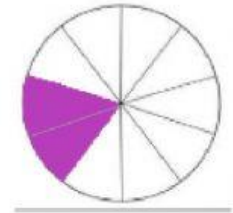
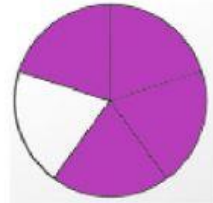
9

 **LIVEWORKSHEETS**

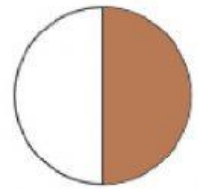
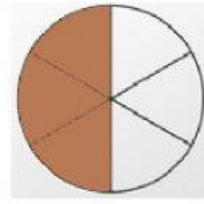
$$\frac{9}{12} - \frac{6}{12} = \boxed{}$$



$$\frac{4}{5} - \frac{2}{10} = \boxed{}$$



$$\frac{1}{2} - \frac{3}{6} = \square$$



$$\frac{10}{5} - \frac{2}{8} = \square$$

