


Resuelvo problemas deportivos


Escribe la operación y resuelve estos problemas.

He comprado 12 gorros de piscina para el equipo de natación. Si ya tenía 7 gorros. ¿Cuántos gorros tengo en total?



$$\square \oplus \square = \square$$

Al ir a guardarlos, he encontrado dos cajas llenas de toallas. 22 eran amarillas y 17 eran de color verde. ¿Cuántas toallas tengo en total?



$$\square \oplus \square = \square$$

Haz clic en la operación adecuada para cada problema. Fíjate que la solución sea la correcta.

El equipo de fútbol de mi ciudad ha comprado 14 balones nuevos. Si aún tenían 21 balones guardados. ¿Cuántos balones tienen en total?



- $14 + 21 = 45$
- $21 - 14 = 7$
- $14 + 21 = 35$


En la final del campeonato de baloncesto los equipos tuvieron estos resultados. ¿Cuántos puntos más ha conseguido el equipo vencedor?



$$23 + 16 = 39$$

$$23 - 16 = 7$$

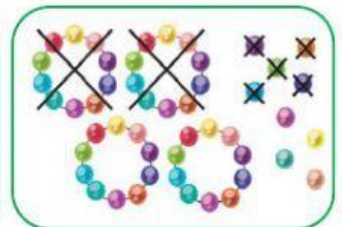

Para la maratón de este año se han apuntado 25 adultos y 13 niños y niñas. ¿Cuántos adultos más que niños y niñas hay?



$$25 - 13 = 12$$

$$25 + 13 = 38$$

Une los dibujos con su operación



$$30 + 11 = 41$$

$$23 + 13 = 36$$

$$26 - 13 = 13$$

$$49 - 25 = 24$$

¡HAZ DEPORTE Y MUÉVETE!

