

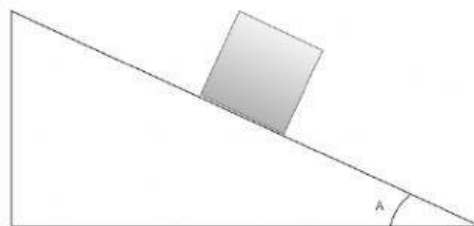

**VIVEMOS CERCADOS POR MÁQUINAS. DENOMINAMOS MÁQUINAS SIMPLES:**

AQUELAS QUE PRECISAMOS FAZER MAIS ESFORÇO FÍSICO.

AQUELAS QUE FACILITAM A AÇÃO DO MOVIMENTO.

AQUELAS QUE PRECISAM APENAS DE PEÇAS ELETRÔNICAS.

**MARQUE A OPÇÃO QUE APRESENTA UMA ALAVANCA:**



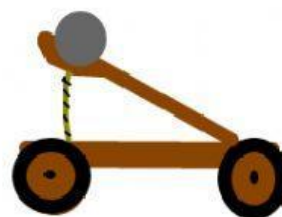
**COMO É O NOME DO HOMEM QUE DESCOBRIU AS ALAVANCAS?**

A) LOUS PARTEUR

B) ARQUIMEDES

C) GALILEU

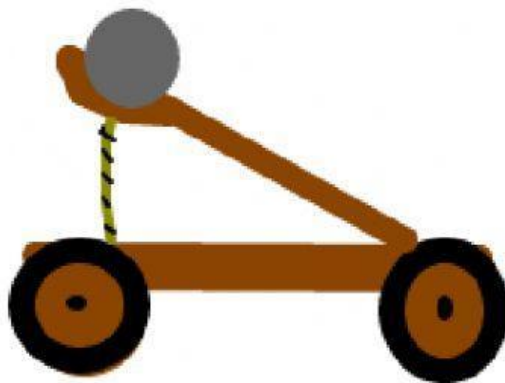
**MARQUE AS OPÇÃO QUE APRESENTA UMA ROLDANA:**



**MARQUE A OPÇÃO QUE APRESENTA UM PLANO INCLINADO:**

- A) POLIA
- B) RAMPA
- C) PINÇA

**A IMAGEM ABAIXO É CHAMADA DE:**



**CATAPULTA**

**GUINDASTE**

**UM EXEMPLO DE POLIA É:**

