


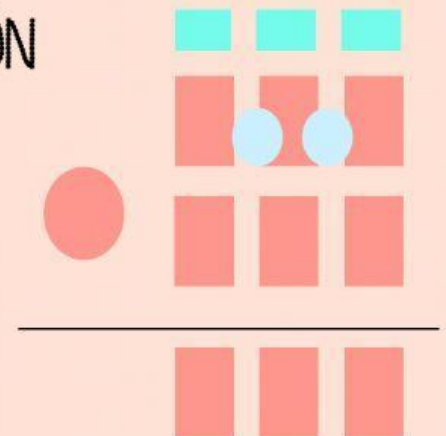
PROBLEMAS



Juan mide 158 centímetros y Luis 174
¿Cuanto mide más Luis que Juan?

DATOS

OPERACIÓN

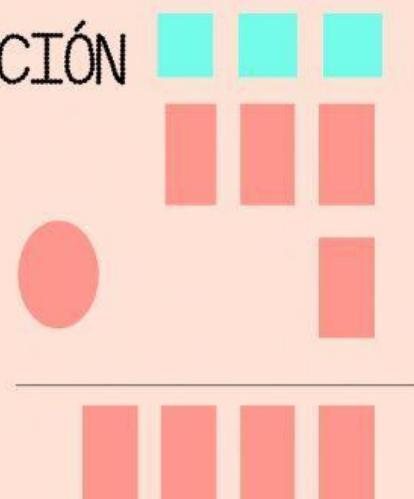


SOLUCIÓN :

Para llenar una botella son necesarios 5 vasos de 110
mililitros cada uno ¿Cuántos mililitros caben en la
botella?

DATOS

OPERACIÓN



SOLUCIÓN :