

Nivel: Media	ÁREA: SOCIALES	ASIGNATURA: SOCIAL STUDIES		AÑO LECTIVO 2020-2021
Curso / año EGB: 7	GRUPOS/PARALELOS: A-B	QUIMESTRE:	SEGUNDO	
Docente: Psic. Ambar Lascano		BLOQUE CURRICULAR N° 3		
INDICADORES ESENCIALES DE EVALUACIÓN: I.CS.3.8.1 Describir el territorio de Ecuador y las características geográficas (relieves, suelos y regiones naturales) que lo identifican como parte del espacio andino. I.CS.3.9.1. Analiza la estructura geológica del Ecuador, su volcanismo activo y sus riesgos sísmicos, empleando mapas e imágenes satelitales.				
ESTUDIANTE:			FECHA:	

PRUEBA DE FIN DE BLOQUE

EXAMEN QUIMESTRAL:

SUPLETORIO:

REMEDIAL:

DESTREZAS CON CRITERIO DE DESPEÑO	ITEMS	VALOR
Revisar los desafíos más urgentes que tiene el Ecuador frente a la democracia y la unidad Nacional.	<p>1) Choose the correct answer. -Una la definición con la respuesta correcta.</p> <div style="display: flex; justify-content: space-around; align-items: flex-start;"> <div style="border: 1px solid gray; border-radius: 10px; padding: 5px; width: 150px; text-align: center;">Interdependence</div> <div style="border: 1px solid gray; border-radius: 10px; padding: 10px; width: 150px; text-align: center;"> <p>Proceso económico, tecnológico político, social y cultural a escala mundial entre los distintos países del mundo.</p> </div> </div> <div style="display: flex; justify-content: space-around; align-items: flex-start; margin-top: 20px;"> <div style="border: 1px solid gray; border-radius: 10px; padding: 5px; width: 150px; text-align: center;">Globalization</div> <div style="border: 1px solid gray; border-radius: 10px; padding: 10px; width: 150px; text-align: center;"> <p>Es una relación horizontal, ninguno es superior al otro y donde todos los países son responsables el uno del otro.</p> </div> </div> <div style="display: flex; justify-content: space-around; align-items: flex-start; margin-top: 20px;"> <div style="border: 1px solid gray; border-radius: 10px; padding: 5px; width: 150px; text-align: center;">Dependence</div> <div style="border: 1px solid gray; border-radius: 10px; padding: 10px; width: 150px; text-align: center;"> <p>Es una relación vertical, con visión unilateral, donde priman los intereses de un país sobre el otro.</p> </div> </div>	3

Localizar los relieves, suelos y regiones naturales de Ecuador con el apoyo de diversos recursos cartográficos.

Exponer la influencia que los climas y su importancia en la vida, considerándolo posibles riesgos y sus posibles planes de contingencia

2) Put the name the following reliefs.
-Coloca el nombre de los siguientes relieves.



Beach

Island

Gulf



3) Relate the image to the climate of the Litoral region.
-Relaciona la imagen con el clima de la región Litoral.

Humid tropical climate

Dry tropical climate

Rainy tropical climate







4) Why is the natural phenomenon known as: the El Niño phenomenon
-Por qué se conocer al fenómeno natural como: the El Niño phenomenon.

- a) Conmemora el nacimiento de mayor cantidad de hombres en el mundo.
- b) Se refiere al niño Jesús, debido a que este fenómeno aparece cada año en la época de Navidad.
- c) Porque la lluvia que provoca es muy fuerte.

3

3

1

<p>Reconocer y apreciar la diversidad de la población ecuatoriana a partir de la observación y el análisis de su ubicación geográfica.</p>	<p>5) Choose the towns that belong to the North Coast region (3). -Escoge los pueblos que pertenecen a la región Litoral Norte (3).</p> <div style="display: flex; justify-content: space-around;">     </div>	3
	<p>6) Put the name of the capitals of the coastal provinces. - Coloca el nombre de las capitales de las provincias de la Costa.</p> <ul style="list-style-type: none"> • The capital of Manabí is: _____ Machala • The capital of Esmeraldas is: _____ Babahoyo • The capital of El Oro is: _____ Esmeraldas • The capital of Los Ríos is: _____ Portoviejo 	4
<p>Reconocer los rasgos más sobresalientes de las provincias del país a base de ejercicios gráficos.</p>	<p>7) Complete the following sentences. -Completa la siguiente oración.</p> <ul style="list-style-type: none"> • La ciudad de Guayaquil se dedica principalmente al _____. 	1
TOTAL		18 puntos
EQUIVALENCIA (10/10)		/10

ELABORADO	VALIDADO	VISTO BUENO
DOCENTE: Psic. Edu. Ambar Lascano	DIRECTOR(A) DE ÁREA: Lcda. Lourdes Riera.	VICERRECTOR(A)/SUBDIRECTOR(A) Ing. Sandra Jara
Firma: 	Firma: 	Firma: 
Fecha: 30/03/2021	Fecha:	Fecha: