
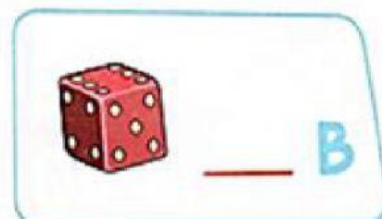


EXAMEN 1° TRIMESTRE DE MATEMÁTICAS PRIMER GRADO

☺ Observa los conjuntos y marca el símbolo **€** y **∉** según corresponda.




€ ∉




€ ∉




€ ∉



€ ∉



€ ∉



€ ∉