


# Tabla del 4

Señale los vagones que tiene como resultado la tabla del 4.



$4 \times 1 =$

$4 \times 2 =$

$4 \times 3 =$

$4 \times 4 =$

$4 \times 5 =$

$4 \times 6 =$

$4 \times 7 =$

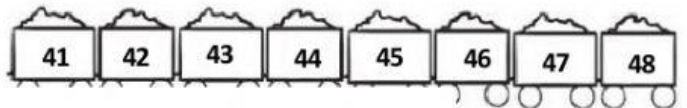




$4 \times 8 =$

$4 \times 9 =$

$4 \times 10 =$

$4 \times 11 =$

$4 \times 12 =$



Activar



Ayude al perrito a llegar a su comida complementando la serie del 4.

