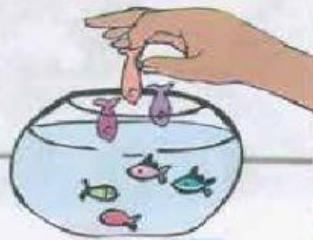


# ¿Cuánto hay ahora?


Completa el dibujo y pon el número que falta.




Hay 4 peces



más 3



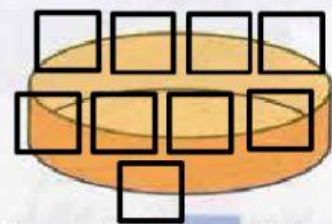
Ahora hay  peces



Hay 5 dulces



más 4



Ahora hay  dulces



Hay 2 flores



más 2



Ahora hay  flores

ordena y pega.

10

--	--	--	--

LECCIÓN 47



61

