



ESCOLA MUNICIPAL OLAVO VILAS BOAS
ENSINO FUNDAMENTAL DE 9 ANOS
Rua Bartolomeu Lauria, 60 - Pássaro da Ilha - Fone: 3555-3847
Guaranésia - MG
Avaliação de Matemática - 1º Bimestre - 3º ano



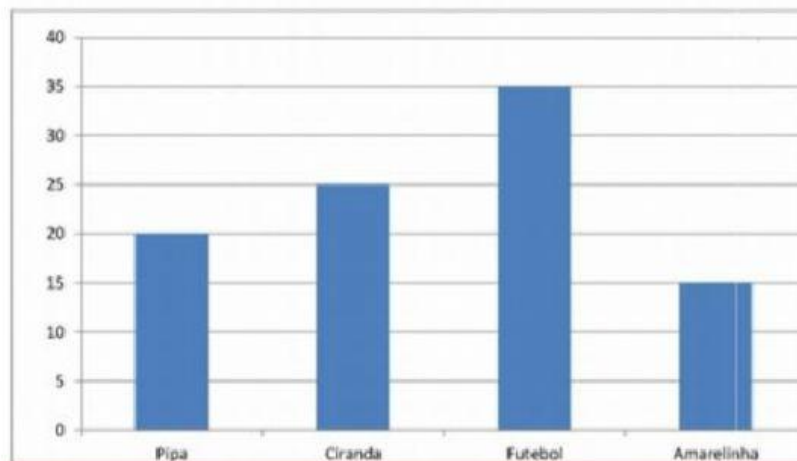
Aluno(a): _____

Professora: _____

Questão 1

Foi feita uma pesquisa na rua onde Márcia mora para descobrir a brincadeira preferida das crianças e o resultado foi:

NÚMERO DE CRIANÇAS



De acordo com o gráfico, a brincadeira preferida pelas crianças é:

- (A) ☐ Pipa
(B) ☐ Amarelinha
(C) ☐ Futebol
(D) ☐ Ciranda

Questão 2

Alguns números sumiram da tabela abaixo. Você saberia dizer quais são esses números?

901	902	903	904	905	906	907	908	909	910
911	912	913	914	915	916	917	918	919	920
921	922	923	924	925	926	927	928	929	930
931	932	933	934	935	936	937	938	939	940
941	942	943	944		946	947	948	949	950
951	952	953				957	958	959	960
961	962	963	964		966	967	968	969	970
971	972	973	974	975	976	977	978	979	980
981	982	983	984	985	986	987	988	989	990
991	992	993	994	995	996	997	998	999	

- (A) ☐ 945-964-965-966-967-1000
(B) ☐ 954-955-956-957-958-1000
(C) ☐ 945-954-955-956-965-1000
(D) ☐ 963-964-965-966-967-1000

Questão 3

Lidiane foi ao cinema e comprou para o lanche uma pipoca, um refrigerante e um chocolate. Observe abaixo o preço desses alimentos que Lidiane comprou.



Pipoca R\$15,00



Refrigerante R\$8,00



Chocolate R\$10,00

Quanto Lidiane pagou por este lanche?

- (A) ☐ R\$33,00
- (B) ☐ R\$23,00
- (C) ☐ R\$32,00
- (D) ☐ R\$25,00

Questão 4

Matheus trocou a nota abaixo por notas de 5 reais.



Quantas notas de 5 reais Matheus recebeu?

- (A) ☐ 4
- (B) ☐ 5
- (C) ☐ 7
- (D) ☐ 9

Questão 5

Veja o número abaixo:

510

Uma das decomposições desse número é:

- (A) ☐ 500+100
- (B) ☐ 500+10
- (C) ☐ 50+10
- (D) ☐ 5+1+0

Questão 6

Um navio chegou ao porto com 196 tripulantes a bordo. Esse número de tripulantes corresponde a:

- (A) ☐ Cento e sessenta e nove
(B) ☐ Cento e noventa e seis
(C) ☐ Duzentos e noventa e seis
(D) ☐ Seiscentos e noventa e um

Questão 7

Reginaldo tem um livro de 50 páginas. Já leu 28 páginas.

Quantas páginas faltam para Reginaldo terminar de ler esse livro?

- (A) ☐ 12
(B) ☐ 20
(C) ☐ 22
(D) ☐ 21

Questão 8

O quadro mostra a quantidade de alunos por turma em uma escola.

TURMA	NÚMERO DE ALUNOS
1º ANO	24
2º ANO	33
3º ANO	21
4º ANO	28

Faça um x na alternativa que mostra a turma que tem mais alunos.

- (A) ☐ 1º ano
(B) ☐ 2º ano
(C) ☐ 3º ano
(D) ☐ 4º ano

Questão 9

Veja os números abaixo colocados no quadro.




124	70	58	96	110
-----	----	----	----	-----

A ordem crescente dos números acima é:

- (A) ☐ 124-110-96-58-70
- (B) ☐ 58-70-96-110-124
- (C) ☐ 70-58-96-124-110
- (D) ☐ 110-96-58-70-124

Questão 10

Observe as peças do material dourado e assinale com um x a quantidade representada.

CENTENA	DEZENAS	UNIDADES
		

- (A) ☐ 169
- (B) ☐ 158
- (C) ☐ 146
- (D) ☐ 269