

Las horas

¿Cuántas horas pasan?

Desde las 2 hasta 3 pasan_____ horas.

Desde las 3 hasta las 6 pasan_____ horas.



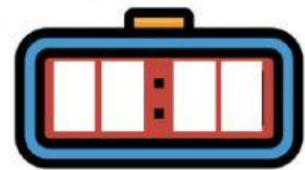
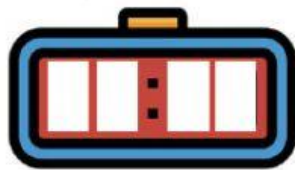


Desde las 5 hasta las 9 pasan_____ horas.

Escoge la hora que marca cada reloj:



Las horas

Escribe la hora en el reloj digital:



Completa la serie:

10-20-30-_____

70-80-90-_____

30-40-50-_____

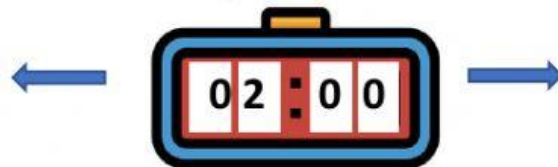
60-70-80-_____

Las horas

Una hora antes y después:

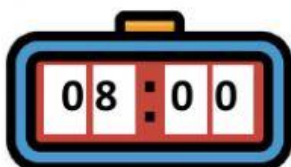
Una hora antes

Una hora después



Completa:

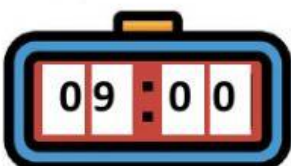
Son las 8.



Media hora después.



Son las 9.



Media hora después.

