


1. Fíjate en todos los elementos de la playa donde veranea Rubén. Contesta a las preguntas.



- Rodea las fuentes de energía que aparecen en el dibujo y escribe su nombre.  
.....  
.....
- ¿Cuál es la fuente de energía que mueve a la niña que está sobre la tabla?  
.....

- Rodea la fuente de energía que impulsa la cometa de Rubén.

viento

sol



agua

carbón

- El avión usa gasóleo como fuente de energía. ¿Se trata de una fuente renovable o no renovable?  
.....

- Escribe 2 ejemplos de fuentes de energía renovable y otros 2 ejemplos de fuentes de energía no renovable.  
.....

1. Fíjate en estas imágenes que representan fuentes de energía. Responde a las preguntas.



- Asocia las siguientes fuentes de energía con su dibujo correspondiente.

cinética

agua en  
movimiento

petróleo

viento

sol

- ¿Cuáles de estas fuentes de energía no van a gastarse por mucho que se usen? ¿Qué nombre reciben este tipo de fuentes de energía?  
.....  
.....