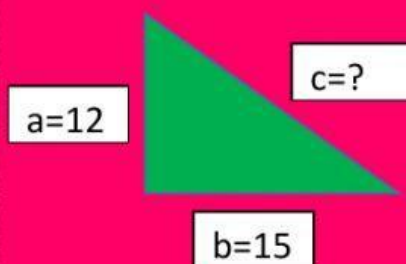


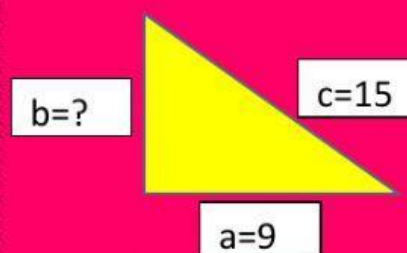
NOMBRE			
FECHA		GRADO Y GRUPO	

TEOREMA DE PITÁGORAS

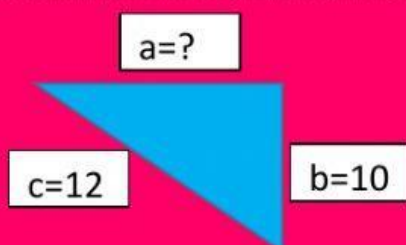
- ❖ ENCUENTRA LA LONGITUD QUE FALTA EN CADA UNO DE LOS SIGUIENTES TRIÁNGULOS.
- ❖ EN CASO DE QUE EL RESULTADO SEA UN NÚMERO DECIMAL, ESCRIBE SOLO DOS CIFRAS DECIMALES



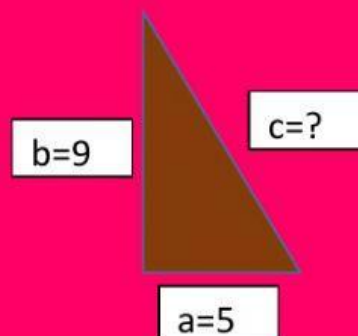
Respuesta:



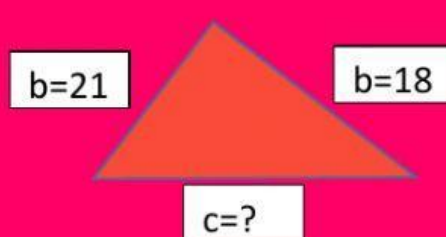
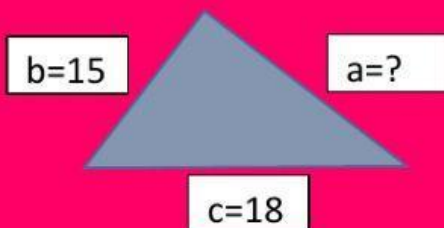
Respuesta:



Respuesta:

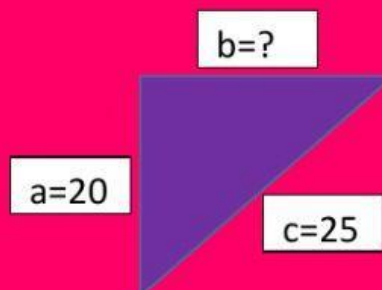
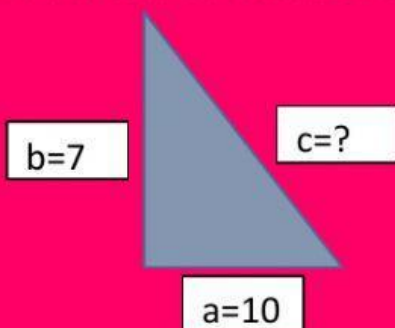


Respuesta:



Respuesta:

Respuesta:



Respuesta:

Respuesta:

