

**PROYECTO 1**  
**MATEMÁTICAS**  
**3ER TRIMESTRE**  
**1ºA**

1.- De acuerdo a lo visto en el tema de Variación lineal completa la siguientes tabla.

1. El automóvil de Javier rinde 75 kilómetros por 5 litros de gasolina, de acuerdo con este dato completa la siguiente tabla.

Litros de gasolina	1	2	3	4	5	6	7	8	9	10
Kilómetros recorridos					75					



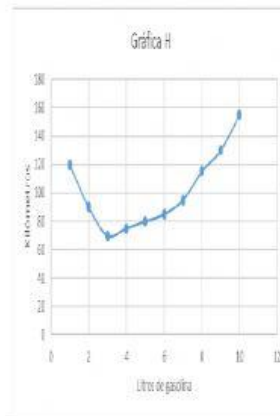
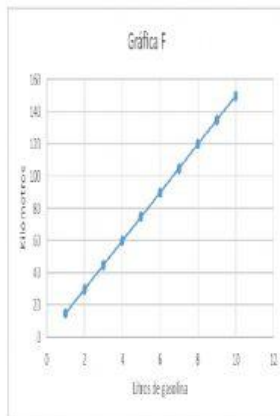
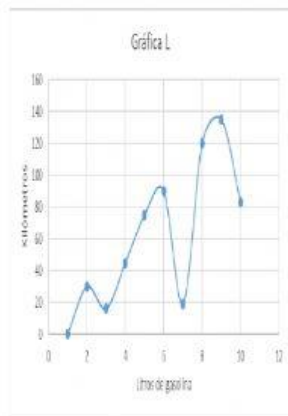
2.- Responde lo siguiente.

a) ¿Cuántos kilómetros recorrerá con 25 litros de gasolina?

b) Y ¿con 40 litros?

c) ¿Cuál es la expresión algebraica que relaciona los litros de gasolina (X) con los kilómetros (Y)?

d) ¿Cuál de las gráficas de abajo representa al problema? Escribe la letra



**Miss. Tere Sánchez**