

LEMBAR KERJA PESERTA DIDIK
(LKPD)
SEJARAH PEMINATAN



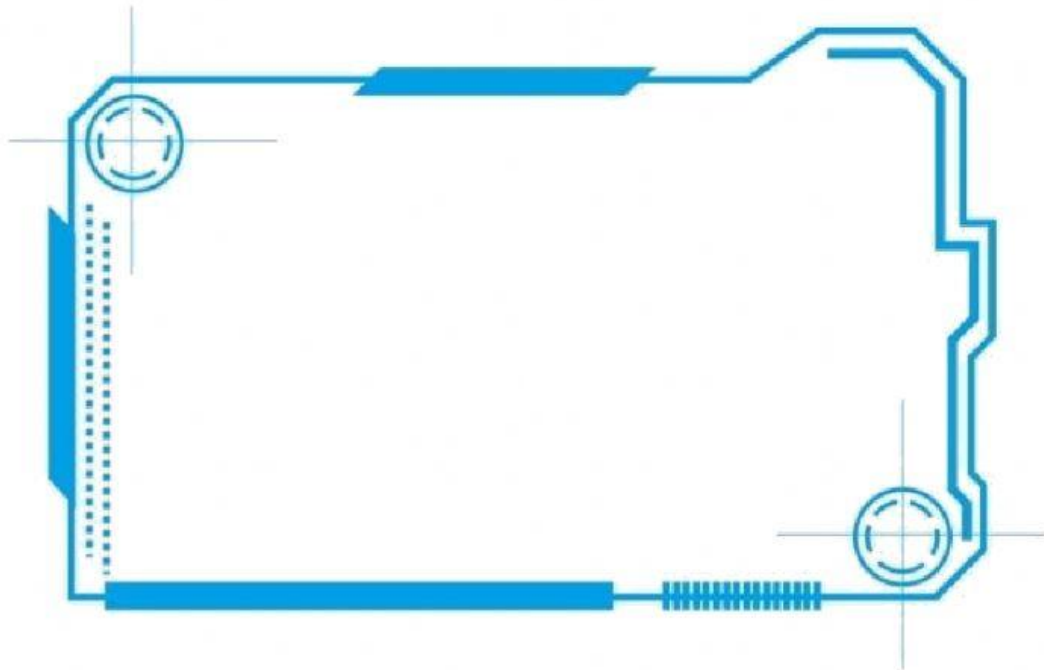
MAULANA AKBAR, S. Pd
NIP. 19891012 201505 1 001
SMA NEGERI 1 BERINGIN

MASA PENDUDUKAN JEPANG DI INDONESIA
MAPEL SEJARAH
KELAS XI IIS

NamaSiswa	:
Kelas	:
No. Absen	:



1. Perhatikan video berikut ini :



2. Tuliskan Komentar saudara terkait video pembelajaran diatas sambil mendengarkan MP3 di tanda panel.



--	--	--

3. Tentukan jawaban pada gambar di bawah ini :



Salah satu penginggalan masa
pendudukan Jepang yang berada di
Bukittinggi



4. Pilihlah jawaban mana yang paling benar dari pertanyaan berikut ini :

Sesudah Jepang menerima penyerahan kekuasaan dari tangan Belanda, wilayah Indonesia dibagi menjadi tiga pemerintahan yang masing-masing pemerintahan dikepalai oleh....

- A. Daidanco
- B. Shondanco
- C. Shogun
- D. Syukokan
- E. Gunseikan

Jepang mendidik para pemuda Indonesia dalam bermacam-macam organisasi di bidang militer pada masa pendudukannya, salah satunya Fujinkai, yaitu....

- A. Barisan wanita
- B. Barisan pemuda yang mempertahankan tanah air
- C. Barisan cadangan yang mengamankan garis belakang
- D. Barisan pembantu polisi
- E. Barisan pelopor

Dalam kondisi terdesak akibat kekalahannya dari Sekutu, Jepang berusaha mengambil hati bangsa Indonesia dengan cara....

- A. Memberi kebebasan berpendapat bagi Indonesia
- B. Melaksanakan politik dumping
- C. Membebaskan para tawanan
- D. Memberikan janji kemerdekaan kepada Indonesia
- E. Mengendorkan sikapnya terhadap Indonesia

Strategi perjuangan yang dilaksanakan oleh para tokoh pergerakan nasional selama masa pendudukan Jepang adalah....

- A. Moderat
- B. Illegal
- C. Legal
- D. Radikal
- E. Revolusioner

Organisasi PUTERA dipimpin oleh tokoh-tokoh pergerakan nasional, yang dikenal dengan nama Empat Serangkai yaitu....

- A. Moh. Hatta, Noto Soeroto, Soekarno, dan Ki Hajar Dewantara
- B. Douwes Dekker, Cipto Mangunkusumo, Ki Hajar Dewantara, dan K.H. Mansur
- C. Soekarno, Moh. Hatta, Ki Hajar Dewantara, dan K.H. Mansur
- D. Datuk Pamuncak, Gatot Mangunkusumo, Suprio Dinoto, dan Wahid Hasyim
- E. Soekarno, Moh. Hatta, Ki Hajar Dewantara, dan Wahid Hasyim

Langkah awal yang dilakukan oleh Jepang untuk menguasai wilayah Asia adalah....

- A. Menguasai wilayah Hong Kong
- B. Merebut Cina dari tangan Inggris
- C. Menyerang pusat militer di Amerika Serikat
- D. Menyerang pangkalan militer Amerika Serikat di Pearl Harbour
- E. Merebut kekuasaan di Indonesia dari tangan Belanda

Pada tahun 1942 Belanda menyerah kepada Jepang di Kalijati, maka sejak itu Indonesia....



- A. Memasuki masa kebebasan dari penjajahan
- B. Mendapat janji kemerdekaan dari Jepang
- C. Memasuki masa transisi dalam perjuangan
- D. Berakhirlah kekuasaan Hindia Belanda di Indonesia
- E. Mulai melaksanakan persiapan kemerdekaan

5. Isilah jawaban pertanyaan berikut. Saudara dapat memilih lebih dari satu jawaban.

Dampak positif dari masa pendudukan Jepang di Indonesia adalah Jepang memberikan pelatihan-pelatihan semi militer dan militer dengan membentik berbagai organisasi kepada masyarakat Indonesia yang bertujuan untuk membantu Jepang dalam menghadapi Perang Asia Timur Raya. Sebutkan organisasi semi militer bentukan Jepang tersebut

PETA	Seinendan	Syuisentai
Pujinkai	Keibodan	Heiho

6. Lengkapi gambar dibawah ini dengan keterangan yang benar dengan cara menjodohkan.



Gerakan 3 A

Romusha

Bom Atom



7. Urutkan Alasan Jepang menguasai Indonesia.

Restorasi Meiji

Jepang menyebut dirinya
sebagai Saudara Tua Indonesia

Paham Hakko Ichou

Faktor ekonomi: mencari
sumber bahan baku industri