



PEMERINTAH KABUPATEN PASURUAN  
DINAS PENDIDIKAN  
**UPT SATUAN PENDIDIKAN SMPN 2 WINONGAN**  
**UJIAN SEKOLAH**  
TAHUN PELAJARAN 2020/2021



MATA PELAJARAN : PRAKARYA HARI TANGGAL : .....  
KELAS : IX ( Sembilan ) WAKTU : 90 MENIT

**PILIH LAH SALAH SATU JAWABAN YANG PALING BENAR !**

1. Serat yang berasal dari tumbuhan dapat diklasifikasikan menjadi empat yaitu serat dari biji, daun, batang dan serat dari buah, gambar kerajinan ini termasuk serat dari bagian ....

A. Daun C. batang  
B. biji D. buah



2. 1 meter pita dapat di buat menjadi 3 kuntum bunga , jika di buat daun menjadi 6 helai daun,. Jika kita mempunyai 5 meter pita warna ungu muda dan 3 meter pita warna hijau maka dapat di buat menjadi bunga ... kuntum dan daun ... helai

A. 8 kuntum bunga dan 9 helai daun C. 15 kuntum bunga dan 18 helai daun  
B. 10 kuntum bunga dan 12 helai daun D. 18 kuntum bunga dan 15 helai daun

3. Gambar kerajinan di samping adalah jam dinding salah satu produk yang dihasilkan dari bahan limbah kertas yang tersedia di sekitar kita. Gambar kerajinan tersebut dibuat dengan menggunakan teknik :


A. Gulung dan tempel C. Gulung dan Sambung  
B. Gulung dan Ikat D. Gulung dan anyaman



4. Hari minggu siska sedang bersih-bersih rumah tanpa sengaja menemukan tumpukan kain perca, akhirnya siska mempunyai ide untuk membuat masker dari kain perca dan inilah model masker yang ingin dibuat siska. Apa saja yang harus disiapkan untuk membuat masker

A. Kain perca, elastic, benang, gunting, jarum, pensil mesin jahit  
B. Kain perca, benang, gunting, jarum, pensil, mesin jahit  
C. Kain perca, elastic, benang, gunting dan mesin jahit  
D. Kain perca, benang, gunting dan mesin jahit

5. Gambar dibawah ini adalah tahapan/Proses Pembuatan Kerajinan Kemasan dari karton



Urutkan langkah- langkah pembuatan kerajinan kemasan dengan benar

A. 1,2,3,4,5,6,7 dan 8 C. 1.3.6.2.4.5.7 dan 8  
B. 3.1.6.2.4.5.7. dan 8 D. 1,3,6,4,2,7,5 dan 8

6. Proses pembuatan kerajinan dimulai dengan mencampur tepung dengan air, kemudian diaduk hingga kalis, diberi warna makanan dan dibentuk sesuai benda yang akan dibuat terakhir disemprot clear agar mengkilap dan awet.

Proses kerajinan di atas menggunakan bahan dasar . . .

A. lilin B. tepung C. sabun D. getah nyatu

7. Dalam merancang kerajinan dari bahan sabun atau bahan lunak dibuat yang indah dan mempunyai daya tarik. Perancangan tersebut mengandung prinsip ...  
 A. Kegunaan (utility) C. Keindahan (aesthetic)  
 B. Kenyamanan (comfortable) D. Keamanan (safety)
8. Dina mendapatkan tugas dari gurunya untuk membuat sebuah karya kerajinan dari bahan limbah keras organik. Dina menyadari bahwa dirinya terlahir di pesisir kota pasuruan, tentunya banyak sekali bahan kerajinan seperti cangkang kerang, tempurung kelapa, sisik ikan, dan tulang ikan. Dina ingin membuat sebuah kerajinan dari tempurung kelapa untuk dijadikan sebuah hiasan meja berbentuk boneka, peralatan apa saja yang harus dipersiapkan Dina untuk membuat kerajinan dari tempurung kelapa tersebut...  
 A. amplas, paku, lem tembak, dan gerinda C. amplas, gergaji, lem tembak, dan gerinda  
 B. amplas, kikir, lem tembak, dan gerinda D. amplas, kikir, lem tembak, dan kertas
9. Prinsip pengolahan limbah dapat kita ketahui secara tertulis maupun dalam bentuk simbol. Manakah yang termasuk dalam simbol pengolahan limbah...

A



B



C



D



10. Prinsip pengolahan sampah adalah 3 R. Berikut ini adalah contoh penerapan 3R Penggunaan :  
 I. botol plastic sebagai pot tanaman III. piring kecil untuk snack  
 II. botol minuman yang bisa dipakai berulang2 IV. plastic sebagai baju karnaval  
 Salah satu contoh yang termasuk prinsip reduce adalah....  
 A. I & II B. II & III C. II & IV D. I & IV
11. Penyajian sebuah produk kerajinan mempunyai peranan penting bagi produsen untuk mengenalkan sebuah produk. Bentuk kemasan sangat membantu para pengrajin untuk mengenalkan dan mendekatkan produk pada konsumennya. Di bawah ini merupakan fungsi beberapa kemasan



- I. Melindungi produk  
 II. Memperbanyak produk  
 III. Membeli produk  
 IV. Menjual produk  
 V. Memperindah Produk

Pilihlah fungsi kemasan yang tepat ....

- A. I, II, III B. I,IV,V C. I, II, IV D. III,IV,V
12. Kayu merupakan salah satu sumber daya alam tertua bangsa Indonesia yang digunakan sebagai bahan dasar kerajinan bahan keras yang banyak diminati oleh konsumen karena sifatnya yang keras dan tahan lama. Di bawah ini adalah beberapa ciri-ciri bahan keras dari kayu.  
 1) Memiliki serat atau urat yang indah  
 2) Batangnya kuat, namun akan terjadi pengelapukan jika terkena air terus menerus  
 3) Memiliki lingkaran tahun  
 4) Sebagian dapat memuai karena perubahan suhu.  
 5) Dapat dipotong berbentuk sayatan ataupun bentuk utuhan  
 Tunjukkan beberapa ciri-ciri dari bahan keras "Kayu" yang benar, adalah....  
 A. 1,2,3 B. 2,3,4 C. 3,4,5 D. 1,3,4
13. Faktor-faktor yang perlu diketahui dalam sebuah perancangan produk adalah...  
 1. Menampilkan bentuk keindahan 4. Penggarapan yang rinci / detail  
 2. Memiliki daya pikat 5. Perupaian atau pewarnaan  
 3. Terjadi keserasian

Keterangan diatas merupakan ciri dari faktor....

- A. Estetika B. Teknis C. Ekonomis D. Ergonomis




14. Pak Amir adalah pengrajin kayu ,beliau membuat banyak sekali kerajinan.beberapa produk yang dihasilkan adalah meja, kursi, Buffet, Tempat tidur, Meja makan ,dll.Pada produk yang dihasilkan selalu ada ornamen yang semakin mempercantik dan menambah nilai jual produknya seperti gambar dibawah ini



Teknik yang digunakan pak Amir seperti gambar diatas ,adalah....

- A. Teknik ukir
- B. Teknik bubut
- C. Teknik Bor
- D. Teknik Pahat

15. Deformaasi diartikan sebagai perubahan bentuk yang terjadi secara permanen.pada kerajinan bahan modifikasi banyak sekali produk-produk yang mengalami deformasi, manakah produk kerajinan dibawah ini yang mengalami deformasi....



16. Dalam membuat Kerajinan berbasis media Campuran, perlu kiranya kita melakukan perubahan strategi adapun prinsip perubahan strategi kerajinan berbasis media campuran yang benar adalah....

- A. Penggabungan dari satu bahan yang tidak memiliki reaksi kimia tertentu ketika dilakukan penggabungan
- B. Bahan yang digunakan terdiri dari berbagai jenis
- C. Bahan tidak terdiri dari bahan yang homogen atau heterogen
- D. Bahan yang digunakan tidak memiliki karakteristik

17. Hamid akan membuat kerajinan bahan modifikasi,sebelum membuat rancangan, terlebih dahulu hamid mencari penjelasan tentang prinsip perubahan strategi kerajinan bahan modifikasi (media campuran),seperti dibawah ini...

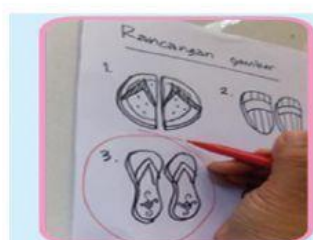
- 1. Merupakan penggabungan dari berbagai bahan yang tidak memiliki reaksi kimia tertentu ketika dilakukan penggabungan
- 2. Bahan yang digunakan terdiri dari satu jenis saja,tidak dua,tiga atau lebih.
- 3. Bahan dapat terdiri dari bahan yang homogen atau heterogen .
- 4. Masing-masing bahan memiliki karakteristik sendiri yang saling mendukung terwujudnya keindahan (estetika) dari sebuah produk kerajinan yang dibuat
- 5. Penggabungan bahan tidak harus bisa menyatu dengan bahan yang lainnya.

Manakah yang merupakan Prinsip perubahan strategi kerajinan bahan modifikasi yang benar....

- A. 1,2 dan 3
- B. 1,3 dan 4
- C. 2,3 dan 5
- D. 2,4 dan 5

18. Proses seperti gambar ini adalah....

- A. Membuat Sketsa gambar
- B. Memilih Karya terbaik
- C. Membuat perencanaan
- D. Menentukan tahapn pembuatan



19. Tabel dibawah ini yang merupakan alat untuk membuat kerajinan dari bahan kayu ,adalah...

1	2	3	4
Penghalus	Patri	Pahat	Gunting
Pemecah batu	Tang	Gergaji	Penggiling
Wadah	Penjepit	Amplas	Penggaris

A. 1

B. 2

C. 3

D.4

20. Banyak sekali kita jumpai kerajinan dari bahan logam dan jenisnyapun bermacam-macam, perhatikan tabel jenis-jenis bahan kerajinan, tentukan yang merupakan jenis bahan dari logam....

Yang merupakan jenis bahan logam ,adalah....

A. 1,2,3,dan 4

B. 2,4,6 dan 8

C. 3,5,6 dan 7

D. 2,5,7 dan 8

No	Jenis bahan
1	Berlian
2	Tembaga
3	Meranti
4	Kecubung
5	Besi
6	Permata
7	Emas
8	Perak


21. Anisah membuat sebuah kerajinan dari bahan batu dan logam menjadi sebuah aksesoris berupa Bros, kemasan yang sesuai untuk produk tersebut,adalah....

A.

B.

C.

D.



22. Benda/karya Kerajinan kombinasi bahan keras di dalam ruang tamu dapat dibuat seperti gambar, analisa desain yang paling tepat untuk gambar ini ...

A. bambu untuk ranting dan tangkai bunga, rotan digunakan untuk vas bunga, kain/kaos bekas digunakan untuk bunga dan daun, batu untuk hiasan di dalam vas bunga

B. rotan untuk ranting dan tangkai bunga, kain/kaos bekas digunakan untuk vas bunga, logam digunakan untuk bunga dan daun, batu untuk hiasan di dalam vas bunga

C. logam untuk ranting dan tangkai bunga, kayu digunakan untuk vas bunga, kain/kaos bekas digunakan untuk bunga dan daun, batu untuk hiasan di dalam vas bunga

D. kain/kaos bekas untuk ranting dan tangkai bunga, rotan digunakan untuk vas bunga, kayu digunakan untuk bunga dan daun, batu untuk hiasan di dalam vas bunga



23. Gambar ini merupakan langkah-langkah proses pembuatan kerajinan lukis kaca,



1



2



3



4



5



6

Keterangan gambar :

1. Menebalkan gambar dengan spidol

2. Membari warna pada gambar dengan cat

3. membuat gambar sebagai pola

4.Lukisan kaca siap dibingkai

5.Gambar ditaruh dibawah kaca dan ditebalkan dengan pena

6. Menutup semua permukaan kaca dengan cat

Susunlah langkah-langkah pembuatan kerajinan lukis kaca dengan benar....

A. 1,2,3,4,5,6

B. 2,4,6,1,2,3

C. 3,1,5,2,6,4

D. 3,2,1,5,6,4



24. Kementerian Lingkungan Hidup dan Kehutanan (KLHK) menilai persoalan sampah sudah meresahkan. Indonesia bahkan masuk dalam peringkat kedua di dunia sebagai penghasil sampah plastik ke Laut setelah Tiongkok. Hal itu berkaitan dengan data dari KLHK yang menyebut plastic hasil dari 100 toko atau anggota Asosiasi Pengusaha Ritel Indonesia (APRINDO) dalam waktu satu tahun saja, sudah mencapai 10,95 juta lembar sampah kantong plastik. Jumlah itu ternyata setara dengan luasan 65,7 hektare kantong plastik atau sekitar 60 kali luas lapangan sepak bola. Sebagai generasi muda apa yang harus dilakukan?
- Membakar sampah plastic biar cepat habis
  - Menimbun/ mengubur sampah plastic
  - Memanfaatkan limbah plastic ini menjadi produk kerajinan.
  - Tetap memakai bahan plastic karena bernilai ekonomis.
25. Bagas menggunakan kaleng bekas untuk pot tanaman, Lisa merangkai kain perca membentuk lembaran plastik yang kemudian digunakan untuk membuat tas. Pernyataan yang benar adalah .....
- Bagas melakukan kegiatan me-reuse sedangkan Lisa me-recycle
  - Bagas melakukan kegiatan me-recycle, sedangkan Lisa me-reuse,
  - Bagas maupun Lisa melakukan kegiatan me-reuse,
  - Bagas maupun Lisa melakukan kegiatan me-recycle
26. Masa pandemi. Bima sering menggunakan HP untuk pembelajaran jarak jauh sehingga menyebabkan kelelahan pada mata disarankan membuat minuman kesehatan untuk melindungi mata supaya tidak lelah yaitu dengan membuat minuman ....

A



jus bayam

B



Jus Brokoli

C



Jus wortel

D



Jus Bit

27. Tahapan pembuatan jus strawberry:
- Tambahkan susu dan gula cair ke dalam wadah blender tersebut.
  - Masukkan es batu ke dalam wadah blender
  - Buang tangkai stroberi dan cuci bersih buah stroberi dengan menggunakan air mengalir.
  - Masukkan stroberi dan bubuk sereal ke dalam wadah blender.
- Tentukan urutan pembuatan jus strawberry dengan tepat !
- .I,II,III,IV
  - B. IV,III,I,II
  - C. III,I,IV,II
  - D. III,II,I,IV

28. Perhatikan tabel sayuran dibawah ini

Tabel I : bayam, kangkung, kubis, melinjo, daun singkong, kemangi

Tabel II : brokoli, bunga turi, tomat. Kacang panjang, kentang. Ubi kayu

Tabel III : daun dan batang talas, kulit melinjo, tangkai daun wortel, batang daun brokoli

Tabel IV : kulit kentang, batang daun seledri, daun pepaya, daun singkong.

Manakah yang menunjukkan jenis dari hasil samping sayuran

- Tabel I
- Tabel II
- Tabel III
- Tabel IV

29. Zat yang berfungsi untuk kekebalan tubuh dan menangkal radikal bebas merupakan manfaat dari ....
- kalsium
  - anti oksidan
  - asam folat
  - potasium.

30. Pada minggu pagi hujan deras tiada henti udara dingin dan perut terasa lapar ibu ani membuat makanan berupa" sayur sop" agar dapat menghagatkan tubuh dan bersemangat mengisi hari liburan ini. Bahan – bahan yang diperlukan dalam pembuatan makanan sayur sop dibawah ini adalah...
- Wortel, kentang, buncis, kubis dan daun bawang
  - Bayam, jagung, labu siam dan daun bawang
  - Daun bawang, kacang panjang, wortel dan buncis
  - Wortel, kentang, kangkung dan daun bawang

31. Perhatikan gambar ini ! Nasi jagung pada gambar, merupakan produk olahan pangan setengah jadi dari...

- A. Bahan sereal berbutiran besar
- B. Bahan sereal berbutiran halus
- C. Bahan umbi berbutiran halus
- D. Bahan umbi berbutiran besar



32. Kue lumpur merupakan jajanan tradisional yang berasal dari Sidoarjo. Kue ini dinamai sesuai dengan kuenya yang licin dan lembut seperti lumpur. Teknik pembuatan kue lumpur adalah sebagai berikut:

- 1) Masukkan telur yang sudah dipecahkan ke dalam wadah yang cukup besar.
- 2) Tambahkan 200 gram gula pasir, vanilla, 250 gr kentang kukus aduk secara perlahan.
- 3) Masukkan tepung terigu, santan, dan 250 gr margarin cair aduk kembali hingga merata
- 4) Siapkan cetakan olesi dengan margarin agar kue tidak lengket, masukkan adonan ke dalam cetakan
- 5) Masak dengan api sedang selama kurang lebih 2 menit
- 6) Kue lumpur siap dihidangkan

Berdasarkan tahapan keterangan diatas, proses pengolahan kue lumpur menggunakan teknik...

- A. Shallow frying
- B. Baking
- C. sautening
- D. Grilling

33. Berikut adalah contoh produk olahan bahan pangan setengah jadi



Rengginang



Krupuk Tette

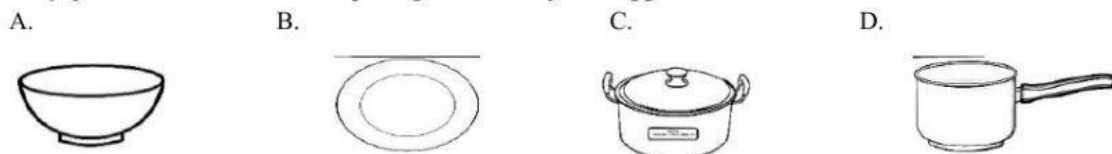


Keripik Tempe

Secara berurutan produk olahan bahan pangan setengah jadi bentuk pipih tebal atau tipis dari bahan sereal, kacang-kacangan, dan umbi ditunjukkan oleh no ....

- A. 1,2, dan 3
- B. 1, 3,dan 2
- C. 2,3, dan 1
- D. 3, 2, dan 1

34. Alat saji khas Indonesia sangat beraneka macam. Ada yang tradisional ada yang modern. Untuk menyajikan makanan khas berupa angkle sebaiknya menggunakan alat...



35. Sumber pangan hewani meliputi susu, telur, ikan dan daging serta produk-produk olahan yang bahan dasarnya berasal dari hewan memiliki kandungan gizi yang tinggi. Kalimat dibawah ini sesuai dengan Pernyataan tersebut adalah ...

- A. Bahan pangan ikan dan daging yang masih mentah memiliki kandungan air yang tinggi sehingga dapat membuat ikan dan daging cepat rusak
- B. Pengolahan bahan pangan hewani bertujuan untuk memperlambat kerusakan yang diakibatkan reaksi biokimiawi serta menghasilkan produk olahan yang secara sensorik (aroma, rasa dan tekstur) memiliki bentuk yang menarik dan bernilai gizi tinggi.
- C. Jenis-jenis produk olahan ikan dan daging yang sering ditemukan di masyarakat berupa pindang ikan, pepes ikan, pepes ayam, ayam goreng, sop ayam/daging sapi atau kambing, sate (ikan, ayam dan daging sapi), dendeng, rendang dan sebagainya.
- D. Cara pengolahan bahan ikan dan daging yang sering dilakukan berupa pengawetan dengan cara pembekuan, pengeringan, pengasapan dan *curing*.

36. Siswa kelas 9 praktek membuat olahan udang menjadi udang saus tiram lada hitam dengan melalui tahapan-tahapan berikut,yaitu ....

- A. Kupas kulit udang bersikan, tumis bumbunya, masak udang bersama bumbunya
- B. Tumis bumbunya, kupas kulit udang bersikan, masak udang bersama bumbunya
- C. Tumis bumbunya, masak udang bersama bumbunya
- D. Kupas kulit udang bersihkan, masak udang bersama bumbunya



37. Tahapan praktik pengolahan pangan setengah jadi meliputi....
- Perencanaan – Persiapan – Pembuatan – Penyajian – Evaluasi
  - Persiapan – Perencanaan – Pembuatan – Penyajian – Evaluasi
  - Pembuatan – Perencanaan – Persiapan – Penyajian – Evaluasi
  - Perencanaan – Pembuatan – Persiapan – Penyajian – Evaluasi

38. Jenis rempah dan bumbu khas Indonesia sangat beraneka macam. Manakah gambar dibawah ini yang termasuk jenis rempah cengkeh...



39. Pengertian pengolahan bahan baku pangan dengan proses pengawetan , baik pengawetan secara kimia, fisik ataupun mikrobiologi, menjadi aneka ragam olahan pangan setengah jadi yang selanjutnya digunakan sebagai bahan baku pangan, disebut.....

- Tahapan pengolahan pangan
- Bahan pangan setengah jadi
- Olahan perikanan
- Makanan tradisional

40. Banyak bahan makanan dari hewani yang dijadikan bahan makanan setengah jadi, tujuannya agar bahan makanan tersebut mempunyai umur simpan yang lebih lama. Salah satunya adalah udang rebon yang dikeringkan menjadi makanan setengah jadi ....

- Ebi
- Tempura
- Nugget
- Sosis

41. Dendeng daging sapi adalah salah satu hasil olahan bahan pangan setengah jadi yang proses pembuatannya harus melalui beberapa tahapan.manakah langkah pembuatan dendeng daging sapi yang benar....

- Memotong daging, dipipihkan, dibumbui, direbus, dijemur
- Memotong daging, dibumbui, dipipihkan, dijemur, direbus
- Memotong daging, direbus, dipipihkan, dibumbui, dijemur
- Memotong daging, dijemur, dibumbui, dipipihkan, direbus



42. Gambar ini adalah produk bahan pangan setengah jadi dari susu yang difermentasi sehingga menghasilkan rasa yang khas di sebut...

- Susu cair
- yogurt
- Pasteurisasi
- SKM



43. Gambar disamping ini adalah salah satu alat yang digunakan pada pengolahan makanan dinamakan tehnik....

- Membakar
- Menggoreng
- Memanggang
- Merebus

44. Pada gambar dibawah ini bumbu basah yang bisa digunakan sebagai pewarna sekaligus bisa mengurangi aroma amis pada ikan dan seafood adalah...



45. Gambar di bawah ini adalah salah satu tehnik pengolahan.....



- Pengeringan
- Penggilingan
- Penggorengan
- Perebusan

46. Pengolahan daging sapi setengah jadi salah satunya menjadi produk dendeng daging sapi. Untuk proses pengolahan dendeng daging sapi menggunakan proses

- A. Pengeringan      B. Pembekuan      C. Pengasapan      D. Pemangangan

47. Bahan pangan setengah jadi yang berbahan baku daging sapi dan unggas sangat digemari oleh masyarakat terutama kalangan anak-anak dan proses pengolahannya harus dibekukan terlebih dahulu, gambar yang termasuk olahan pangan setengah jadi berbahan baku unggas adalah



1.



2.



3.



4.



5.

A. 1 dan 2

B. 1 dan 3

C. 2 dan 5

D. 2 dan 3

48. Perhatikan data dibawah ini

1. Telur dicuci sampai bersih
2. Tumbuk batu bata hingga halus
3. Campur batu bata dengan garam dan air
4. Tutup permukaan kulit telur dengan batu bata
5. Simpan telur selama 1 minggu

Berdasarkan data diatas tahapan pembuatan telur asin yang benar adalah...

A. 1-3-2-4-5

B. 1-2-3-5-4

C. 2-1-3-4-5

D. 1-2-3-4-5

49. Perhatikan Gambar ! jenis kemasan pada gambar sesuai digunakan untuk olahan....

- A. Gulai kepala ikan  
B. Kerupuk kulit  
C. Dendeng sapi  
D. Baso ikan



50. Gambar ini menunjukkan penyajian secara ....

- A. Penyajian modern dan tradisional  
B. Penyajian tradisional  
C. Kemasan modern  
D. Kemasan tradisional

**\$\$\$ Selamat Mengerjakan \$\$\$**