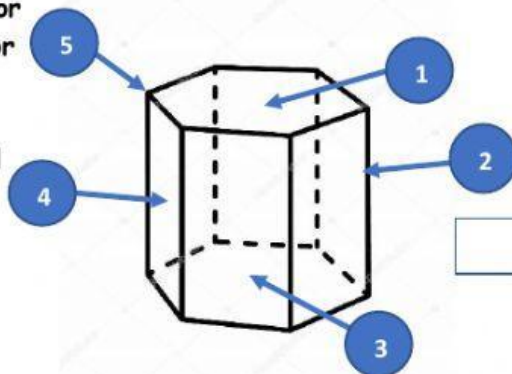


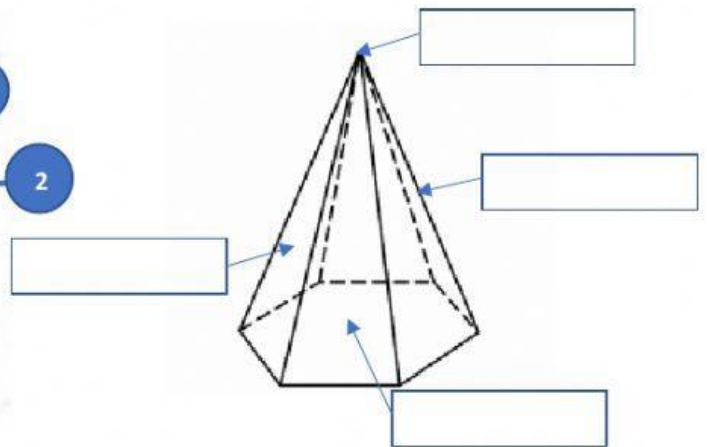
PRISMAS Y PIRÁMIDES

I. Identifica los elementos de un prisma

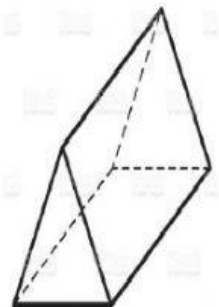
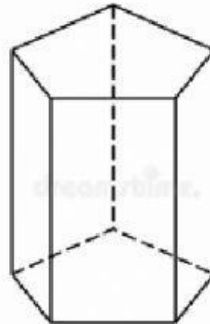
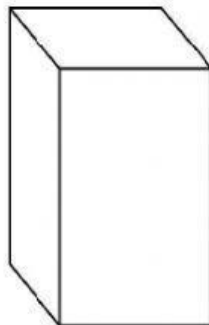
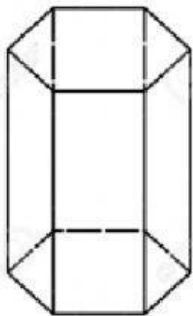
- () Base superior
- () Base inferior
- () Arista
- () Vértice
- () Cara lateral



II. Escribe el nombre de cada elemento de una pirámide

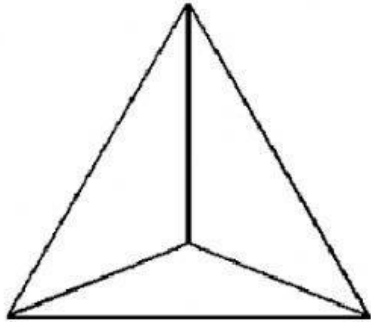


III. Escribe el nombre de los siguientes cuerpos geométricos

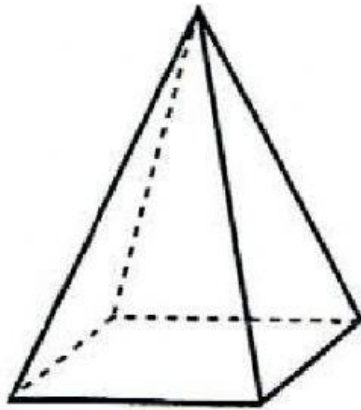


Profesora Patricia Pérez
RPPH

IV. Analiza los siguientes cuerpos geométricos y completa



1. Nombre del cuerpo geométrico _____
2. Número de aristas _____
3. Número de vértices _____
4. Número de caras laterales _____



1. Nombre del cuerpo geométrico _____
2. Número de aristas _____
3. Número de vértices _____
4. Número de caras laterales _____

Profesora Patricia Pérez
RPPH