

**UNIDAD EDUCATIVA
"HOLANDA MAÑANA"
PRIMARIA COMUNITARIA VOCACIONAL
Matemática**



ESCRIBE NOMBRES Y APELLIDOS:

1.- Demuestra tus habilidades al comparar MAYOR, MENOR O IGUAL QUE.

Ahora comparamos números. Escribe el signo $>$, $<$ o $=$ según corresponda.

$3 \square 8$

$3 \square 0$

$5 \square 8$


$9 \square 8$

$7 \square 4$

$5 \square 3$

2.- Resuelve los siguientes problemas de adición:

Si en casa tenemos 4 naranjas y nos regalan otras 4 ¿Cuántas naranjas tenemos?



OPERACIÓN

RESPUESTA

.....

.....

3.- Resuelve los siguientes problemas de sustracción:

Si Aymé tiene 6 frutas y compartió 2 con Mary Luz ¿Cuántas frutas tiene Aymé?






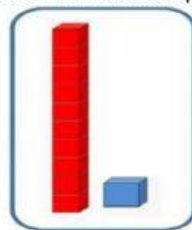

OPERACIÓN

RESPUESTA

.....

.....

4.- Une con flechitas LAS UNIDADES Y DECENAS que correspondan.



11

13

22

14

5

5.- Observa y señala donde corresponda partes de un CALENDARIO.

AÑO

2021
Abril

MES

DÍAS

Lu	Ma	Mi	Ju	Vi	Sa	Do
			1	2	3	4
5	6	7	8	9	10	11
12	13	14	15	16	17	18
19	20	21	22	23	24	25
26	27	28	29	30		

SEMANA

6.- Observa cómo se leen las horas y media.



10 : 30

Las 10 y media



04 : 30

Las 4 y media

7.- Observa y señala los instrumentos de medidas.



KILOS




METROS



LITROS

8.- Ordena los números ordinales según corresponda a la llegada de los corredores.



OCTAVO

SÉPTIMO

TERCERO

NOVENO

SEXTO

DÉCIMO

PRIMERO

SEGUNDO

QUINTO

CUARTO