

LKPD

Tema 8 Subtema 2 Pembelajaran 5 “Lingkungan Sahabat Kita”

Nama :

Kelas :

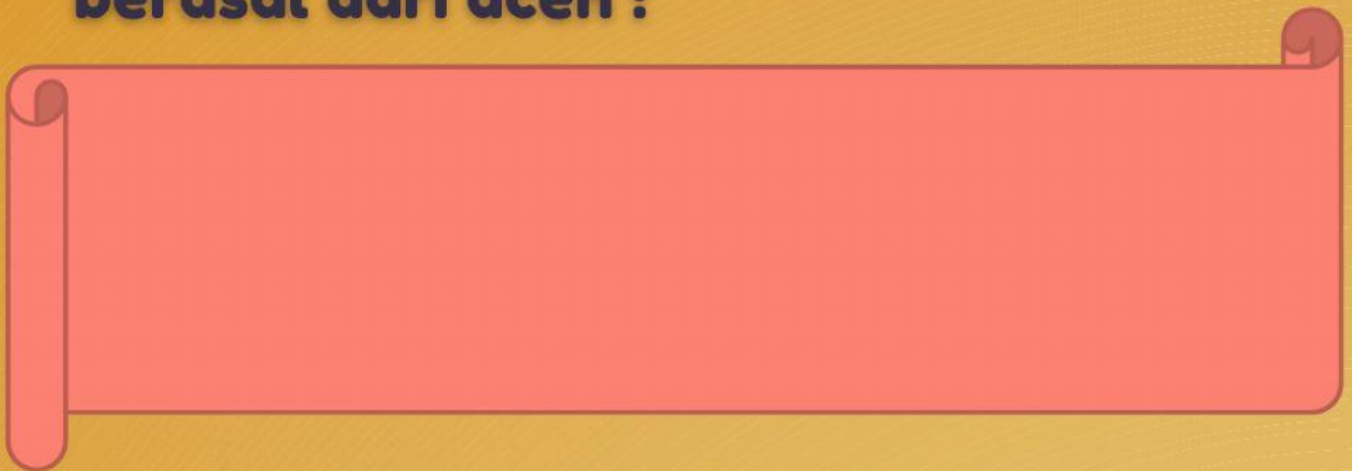
Oleh :
Dessy Shinta Arianto, S.Pd.




LKPD 1

Jawablah pertanyaan dibawah ini dengan benar !


1. Sebutkan 2 contoh jenis tarian yang berasal dari aceh !



2. Sebutkan 2 contoh jenis tarian yang berasal dari Sumatra Barat!





3. Sebutkan 2 contoh jenis tarian yang berasal dari lampung !



4. Jelaskan pola lantai yang ditunjukkan gambar



5. Jelaskan pola lantai yang ditunjukkan gambar



LKPD 2

A. Setelah kalian selesai membaca teks SUBAK, Filosofi keserasian dalam masyarakat agraris pulau dewata jawablah pertanyaan di bawah ini!

1. Tradisi apa yang dibahas didalam teks ?




2. Darimana tradisi tersebut berasal ?




LKPD 2

3. Kapan tradisi tersebut mulai ada di masyarakat ?



4. Bagaimana tradisi tersebut dilakukan ?



LKPD 3

**A. Jawablah pertanyaan berikut ini !
Dedi melihat kondisi sawah yang tanahnya retak-retak dan tanaman padi mengering. Saat itu sedang musim kemarau.**

1. Apa dampak jika peristiwa yang dilihat Dedi terjadi dalam jangka waktu yang lama ?

.....
.....
.....

2. Kita mengetahui bahwa air tidak akan habis karena mengalami siklus air, tetapi mengapa kekeringan dapat terjadi ?

.....
.....
.....

LKPD 3

3. Apa yang terjadi didaerahmu pada saat musim kemarau ?

.....

.....

.....

4. Ceritakan pengalamannmu saat musim kemarau tiba !

.....

.....

.....

LKPD 3

B. Pada Pembelajaran yang lalu kamu mendapat tugas membuat poster tentang dampak siklus air terhadap kehidupan. Kini, presentasikan postermu

