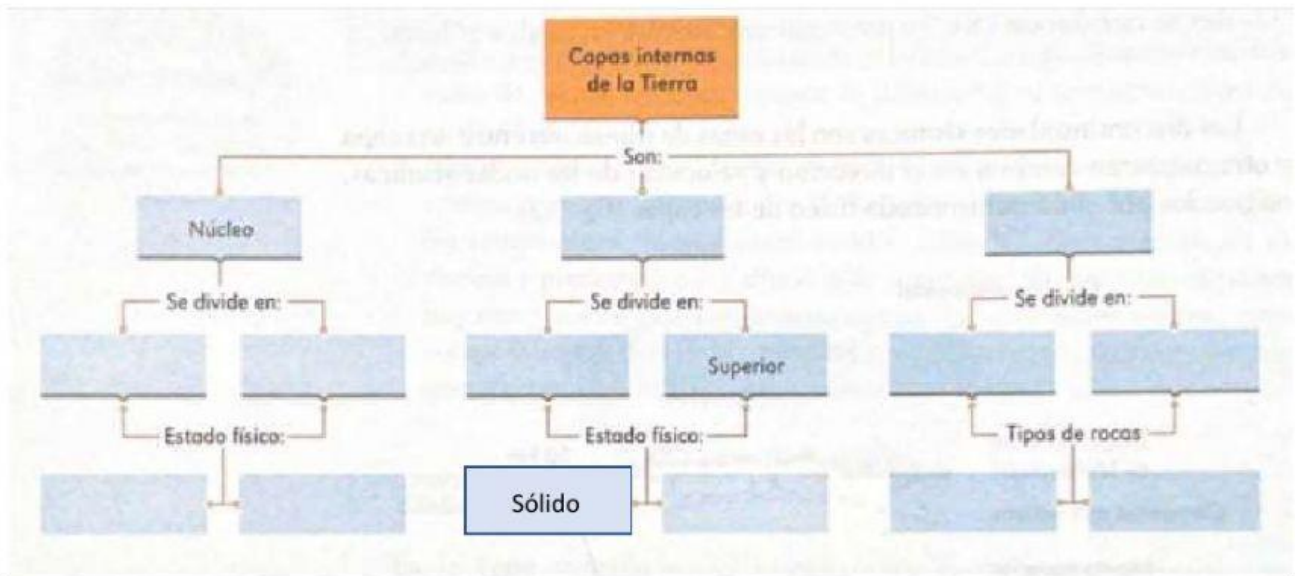


LITÓSFERA, HIDRÓSFERA, ATMÓSFERA

I. Completa el siguiente mapa, arrastrando las palabras que aparecen debajo de este.



Fluido

Manto

Viscoso

Graníticas

Interno

Sólido

Inferior

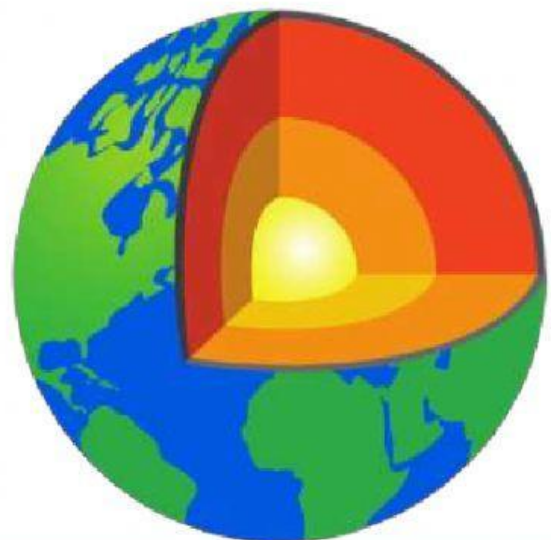
Basálticas

Corteza
Terrestre

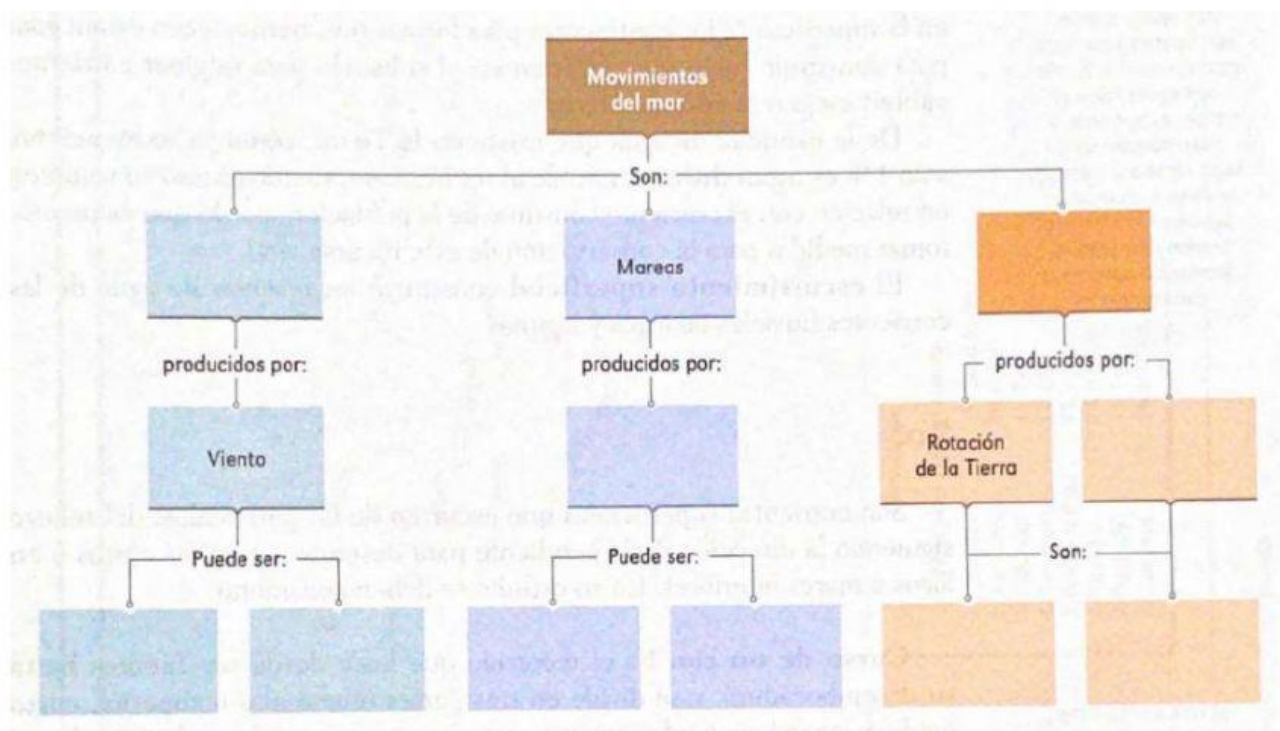
Oceánica

Continental

Externo



- II. Selecciona la opción que mejor corresponda para completar el siguiente mapa.



II. Indica con una línea a qué parte de la imagen corresponde cada una de las palabras.

Globos tripulados
 Telescopio Hubble
 Exósfera
 Everest
 Mesósfera
 Rayos cósmicos
 Fenómenos meteorológicos
 Zona de iones
 Estrellas fugaces
 Termósfera o ionosfera
 Capa de ozono
 Ondas de radio
 Estratósfera
 Sputnik
 Tropósfera
 Nubes luminiscentes
 Auroras polares
 Contaminantes
 Naves en órbita terrestre
 Aviones supersónicos
 Globos meteorológicos

