

TRATAMIENTO DE LA INFORMACIÓN.



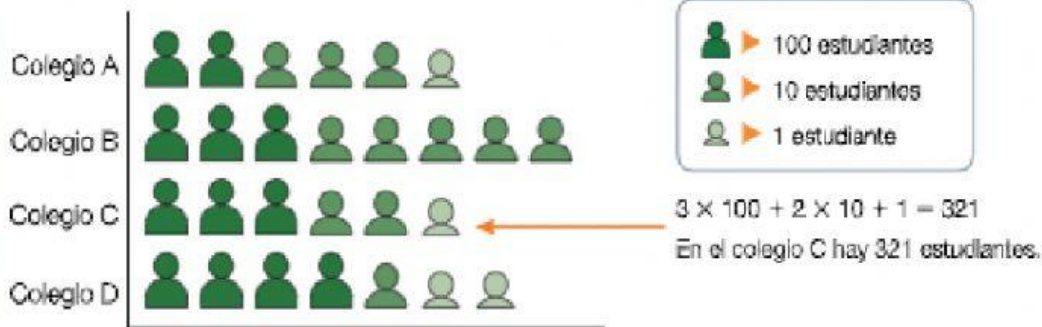
FICHA 22: PICTOGRAMAS.

1. Mira el vídeo sobre los pictogramas y aprende:

2. Recuerda.

En un pictograma representamos los datos con dibujos.

El ayuntamiento de Arlón ha representado el número de alumnos y alumnas que hay en los cuatro colegios del pueblo. Ha representado los datos con tres dibujos.



3. Lee y contesta:

Mes	Conteo
Noviembre	
Diciembre	
Enero	
Febrero	

Clave o convenio

= 100 pelotas

- 1 ¿Cuántas pelotas más se vendieron en noviembre que en enero?


2 ¿Cuántas pelotas más se vendieron en diciembre que en febrero?

3 ¿Cuántas pelotas se vendieron en total?

4 ¿En qué meses se vendieron más pelotas?

4. Lee y contesta:

Mes	Conteo
Enero	 
Febrero	    
Marzo	  
Abril	   

Clave o convenio
 = 12 televisores

Según el pictograma anterior, responde.

A ¿Cuántos televisores se vendieron en el mes de abril?

- a) 28 c) 45 e) 30
b) 40 d) 48

B ¿Cuántos televisores más se vendieron en febrero que en enero?

- a) 20 c) 30 e) 15
b) 26 d) 36


C ¿En qué mes se vendieron más televisores?


- a) Enero d) Abril
b) Febrero e) Julio
c) Marzo




5. Lee y contesta:

En el pictograma se han representado los ejemplares vendidos de una novela los cuatro primeros meses del año.

 ► 100 ejemplares

 ► 20 ejemplares



A ¿Cuántos ejemplares se vendieron en enero? ¿Y en febrero?

En enero se vendieron: _____ ejemplares.

En febrero se vendieron: _____ ejemplares.

B ¿Cuántos ejemplares se vendieron en marzo? ¿Y en abril?

En marzo se vendieron: _____ ejemplares.

En abril se vendieron: _____ ejemplares.

C ¿Cuántos ejemplares se vendieron en febrero más que en enero?

En febrero se vendieron _____ más ejemplares que en enero.

D ¿Cuántos ejemplares se vendieron en total en los cuatro meses?

En los cuatro meses se vendieron un total de _____ ejemplares.