



AHORA TE TOCA

➤ COMPLETA CON ESTAS PALABRAS

agudo

recto

obtuso

llano

más

90°

menos

180°

EL ÁNGULO OBTUSO MIDE _____ DE 90°

EL ÁNGULO RECTO MIDE _____

EL ÁNGULO LLANO MIDE _____

EL ÁNGULO AGUDO MIDE _____ DE 90°

ESTE ÁNGULO



ES UN ÁNGULO _____

ESTE ÁNGULO



ES UN ÁNGULO _____

ESTE ÁNGULO



ES UN ÁNGULO _____

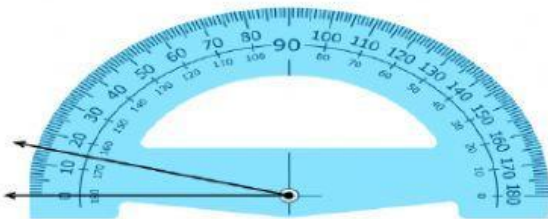
ESTE ÁNGULO

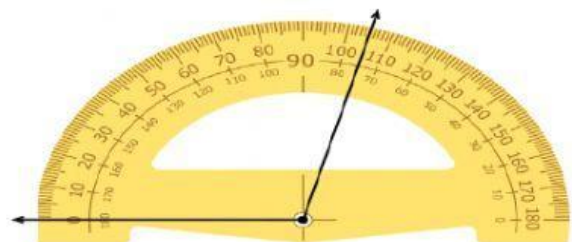


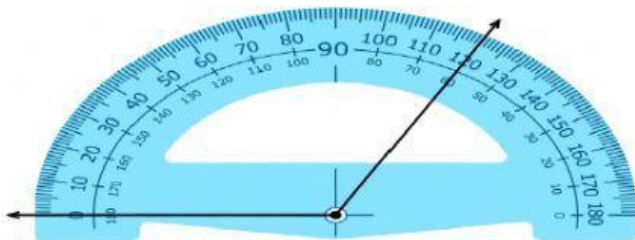
ES UN ÁNGULO _____

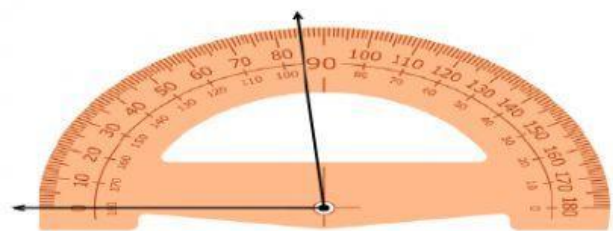
➤ Lee, observa y completa

Andrea traza los siguientes ángulos y desea saber cuál es la medida de cada uno, observa detenidamente el transportador y coloca el nombre de cada ángulo.







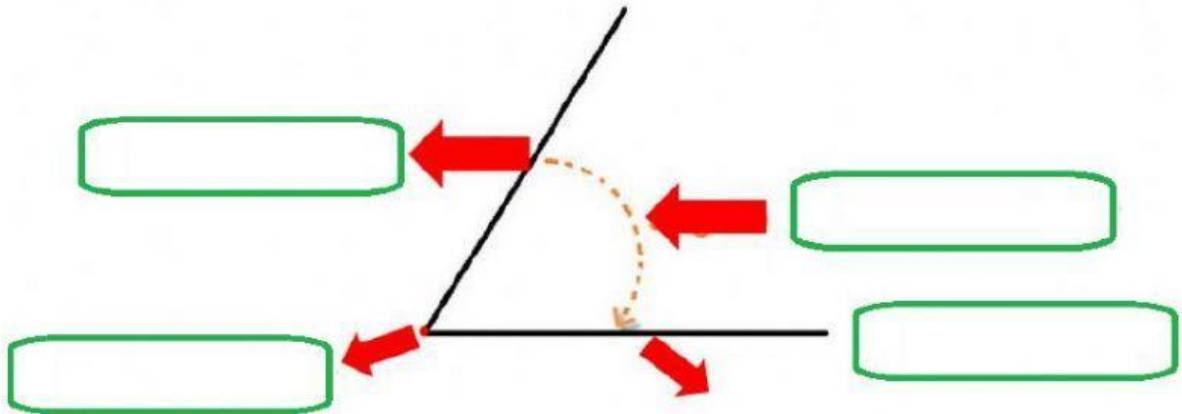


➤ Escribe en los recuadros las partes de ángulos


lado

vértice

ángulo



➤ ¿Qué ángulos forman las flechas?



Ángulo agudo

Ángulo recto

Ángulo obtuso

➤ **DESAFIO**

¿Qué ángulo forman las agujas del reloj a las tres en punto? ¿A las seis?
¿Y a las cinco?

A las tres en punto, las agujas del reloj forman un ángulo _____.

A las seis en punto, las agujas del reloj forman un ángulo _____

A las cinco en punto, las agujas del reloj forman un ángulo _____