



Prueba de Matemática

Segundo básico

Nombre: _____ Fecha: 19/04/2021

Indicadores de evaluación:

- Leer y representar números hasta 50.
- Contar de 2 en 2, de 5 en 5 y de 10 en 10.
- Comparar y ordenar números.

1. Escribe simbólicamente (con números) en las estrellas los números que se encuentran escritos con palabras. 12 puntos

a. Dieciocho



b. Treinta y cuatro



c. Cuarenta y tres



d. Veintisiete






e. Quince



f. Cuarenta



2. Arrastra las imágenes de bloques con el número que corresponda. 10 puntos



34

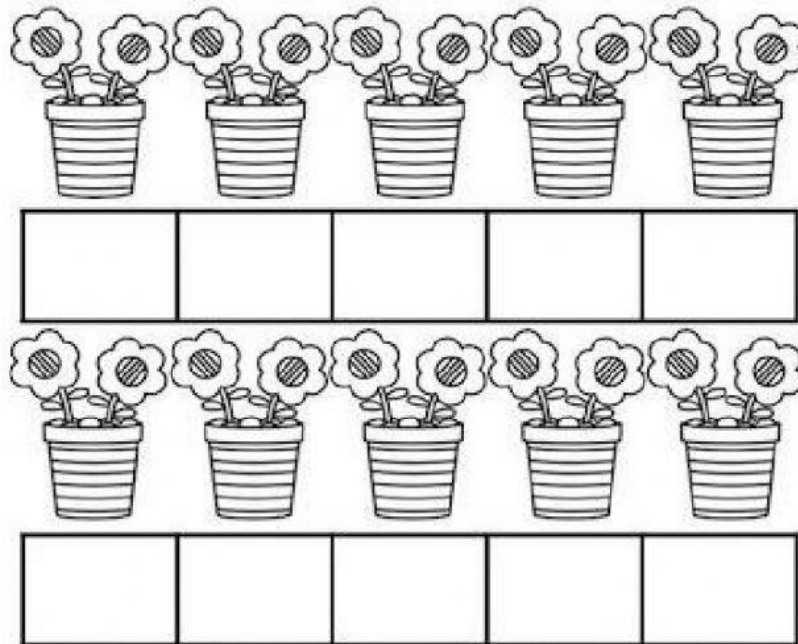
50

42

21


48

3. Escribe el conteo de 2 en 2 para conocer la cantidad de flores que hay en total. 10 puntos




En total hay _____ flores.

4. Cuenta de 5 en 5 y escribe los números que faltan en las manos. 14 puntos.



5. Cuenta de 10 en 10 hacia atrás y arrastra los números para completar los carteles hasta llegar a 10. 16 p



6. Compara los números y completa las frases con **"MAYOR, MENOR o IGUAL"** 8p

a. 13 _____ 39 b. 32 _____ 24

b. 23 _____ 23 d. 50 _____ 48

7. Ubica los siguientes números en la cinta numerada o tabla de 100, y luego completa los cuadros escribiendo los mismos números ordenados de menor a mayor. 10 p

14 – 45 – 32 – 19 – 20

--	--	--	--	--